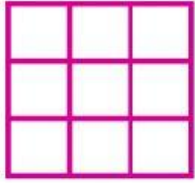



Arreglos rectangulares "Dibujando multiplicaciones"

Instrucciones: Observa y cuenta los cuadros en cada arreglo rectangular, después únelos con su resultado correspondiente.



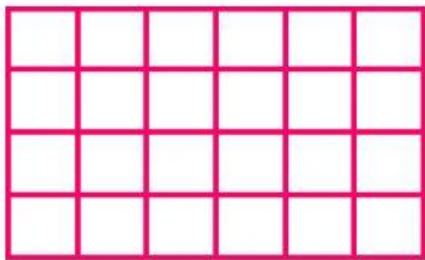
$$5 \times 7 = 35$$

$$7 \times 5 = 35$$




$$10 \times 2 = 20$$

$$2 \times 10 = 20$$



$$3 \times 3 = 9$$



$$3 \times 4 = 12$$

$$4 \times 3 = 12$$



$$6 \times 4 = 24$$

$$4 \times 6 = 20$$

Lizbeth.Hdz

