



# FICHA DE REPASO.

## UNIDAD 3



Analiza este número:

**1** - Se escribe con letra:

---

**2** - Escribe el anterior y el posterior:

**569**


- Es PAR o IMPAR:





**3** - Completa el crucinúmero:




**4** - Representa con palillos:



- Representa con símbolos:



**5** - Escribe tres números menores y tres mayores:

\_\_\_ < \_\_\_ < \_\_\_ < **569** < \_\_\_ < \_\_\_ < \_\_\_

**6** - Completa el laberinto numérico:



+10  -2  +5  -10  +2  +3  +20  -30  -3  +10

Anabel F. C.



**7** - Descompón de 5 formas diferentes: :

569			
C	D	U	Unidades
		69	
4			
	3		
		469	



- Compón estos números::

$$58D \ 16U = \boxed{\phantom{000}}$$

$$4C \ 149U = \boxed{\phantom{000}}$$

$$5C \ 7D \ 16U = \boxed{\phantom{000}}$$

$$3C \ 20D \ 57U = \boxed{\phantom{000}}$$



**8** - Ordena los números del árbol de menor a mayor:



**9** - Escribe los resultados de la tabla de multiplicar del 2:

$2 \times 7 =$	$2 \times 30 =$	$2 \times 70 =$
$2 \times 20 =$	$2 \times 4 =$	$2 \times 8 =$
$2 \times 80 =$	$2 \times 60 =$	$2 \times 90 =$
$2 \times 9 =$	$2 \times 5 =$	$2 \times 100 =$



**10** - Resuelve estas operaciones:

436 + 128		

275 + 197		

584 - 396		

529 - 468		