

4. తీసివేత - SUBTRACTION


Class :- III
Subject :- Maths

Name :-


సూచన:-పిల్లలూ.. మొదటగా మీ నోట్ బుక్ లో తీసివేత చేసి విలువలు ఇక్కడ వేయండి.

1. రాణి వద్ద ₹ 342లు ఉన్నవి. అఖిల వద్ద రాణికన్నా ₹ 125లు తక్కువ ఉన్నవి. అఖిల వద్ద ఉన్న డబ్బు ఎంత?


	100	10	1
రాణి వద్ద గల డబ్బు ₹	3	4	2
అఖిల వద్ద ఉన్న తక్కువ డబ్బు -	1	2	5
అఖిల వద్ద గల డబ్బు ₹			



ఆలోచించండి!
అఖిల వద్ద గల రూపాయలు
150 కన్నా ఎక్కువా?
లేదా
150 కన్నా తక్కువా?



2. పిల్ల తాబేలు వయస్సు 47 సంవత్సరాలు. తల్లి తాబేలు వయస్సు 160 సంవత్సరాలు. పిల్ల తాబేలు, తల్లి తాబేలు కన్నా ఎంత చిన్నది?



తల్లి తాబేలు వయస్సు : సంవత్సరాలు

పిల్ల తాబేలు వయస్సు : సంవత్సరాలు

	100	10	1
	1	6	0
-		4	7



ఆలోచించండి!
160-47ల తేడా
100 కన్నా ఎక్కువా? లేక
100 కన్నా తక్కువా?

పిల్ల తాబేలు, తల్లి తాబేలు కన్నా _____ సంవత్సరాలు చిన్నది.

3. గౌరి ఒక కథల పుస్తకంలో 194 పేజీలు చదివింది. శ్వేత అదే కథల పుస్తకంలో 128 పేజీలు చదివింది. ఎవరు ఎక్కువ పేజీలు చదివారు? ఎన్ని పేజీలు ఎక్కువ చదివారు?



	100	10	1
	1	9	4
-	1	2	8

ఆలోచించండి!
194-128ల తేడా
100 కన్నా ఎక్కువా? లేదా
100 కన్నా తక్కువా?