

ESCUELA DE EDUCACIÓN BÁSICA "EDUARDO KINGMAN"




NOMBRE: _____

LECCIÓN DE ESTUDIOS SOCIALES

1. COLOCA UNA X EN EL VOLCÁN MÁS ALTO DEL ECUADOR. (1 PTO.)



COTOPAXI

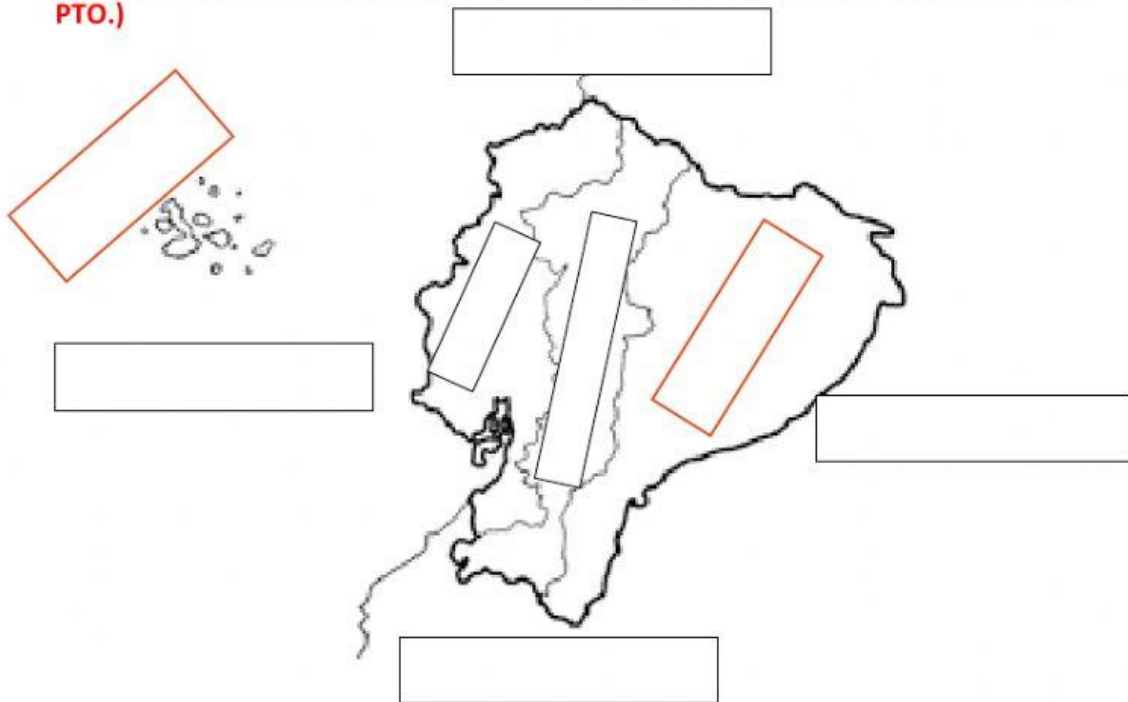


TUNGURAHUA



CHIMBORAZO

2. UBICA EN EL MAPA LAS REGIONES NATURALES DEL ECUADOR Y LOS LIMITES. (2 PTO.)



LITORAL

INSULAR

INTERANDINA

AMAZONÍA

COLOMBIA

O. PACÍFICO

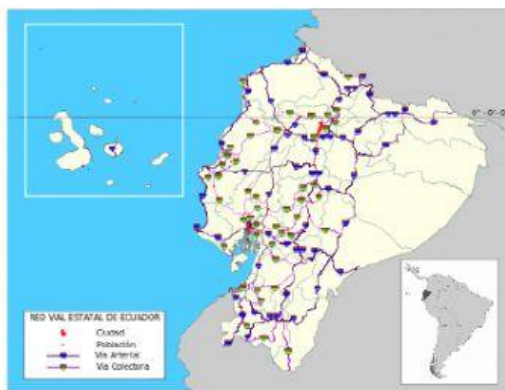
PERÚ

PERÚ

3. ESCRIBE V O F SEGÚN CORRESPONDA. (2 ptos.)

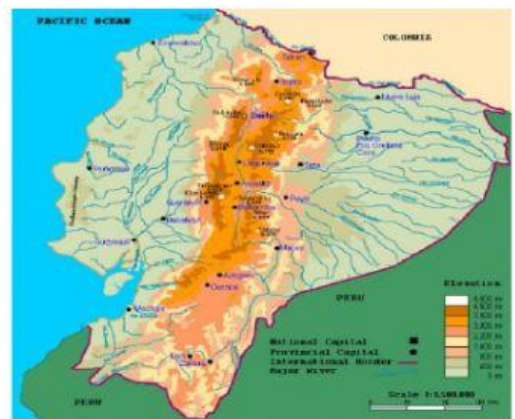
- a) ___ Los relieves es un conjunto de formas que accidentan la superficie de la tierra.
- b) ___ La Cordillera de los Andes atraviesa nuestro país de sur a norte.
- c) ___ Ecuador está situado en América del NORTE.
- d) ___ Los mapas son representaciones gráficas de la tierra o de una parte de ella.

4. SELECCIONA EL TIPO DE MAPA SEGÚN CORRESPONDA. (2 ptos.)



Mapa político	Mapa Físico	Mapa Vial	Mapa de la producción
---------------	-------------	-----------	-----------------------

Mapa político	Mapa Físico	Mapa Vial	Mapa de la producción
---------------	-------------	-----------	-----------------------



Mapa político	Mapa Físico	Mapa Vial	Mapa de la producción
---------------	-------------	-----------	-----------------------

Mapa político	Mapa Físico	Mapa Vial	Mapa de la producción
---------------	-------------	-----------	-----------------------

5. COMPLETA CON FRASES DEL RECUADRO (1pto.)

Formado sobre restos volcánicos	Minerales y erosionados
Sobre minerales antiguos	Aluviales

- a) por la influencia del clima. _____
- b) por la acumulación de cenizas volcánicas. _____
- c) Suelos destruidos por la erosión. _____
- d) por la acción de corrientes de agua. _____

6. COMPLETA LOS ELEMENTOS QUE CONFORMAN UNA CUENCA HIDROGRÁFICA. (1ptos.)



7. UNIR CON LÍNEAS SEGÚN CORRESPONDA.(1 PTO)

PREFECTO PROVINCIAL CONSEJERO PROVINCIAL GOBERNADOR.	JEFE POLÍTICO ALCALDE CONCEJALES	TENIENTE POLÍTICO JUNTA PARROQUIAL
CANTONALES	PROVINCIALES	PARROQUIALES