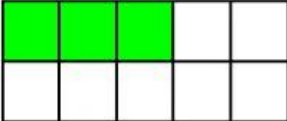
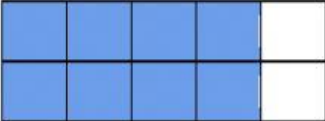
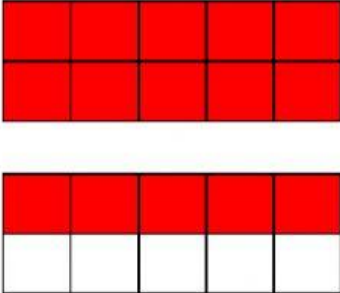


DECIMALES

**COMPETENCIA: RESOLVER PROBLEMAS DE CANTIDAD**

**1.- Completa la tabla**

GRÁFICO			
FRACCIÓN DECIMAL	$\frac{3}{10}$	—	—
NÚMERO DECIMAL		0,8	

**2.- Compara los decimales colocando el signo >, < o =**

5,6	—	6,5
13,30	—	13,3
8,7	—	8,9
26,01	—	26,10

**3.- Resuelve las siguientes operaciones**

6,45	+	30, —	-	59,91	+
1,7		5,87		16,74	
0,19				3,5	

**4.- Ordena de mayor a menor:**

1,54    14,5    1,45    14,51    4,51    14,05    145,1

\_\_\_\_\_ > \_\_\_\_\_ > \_\_\_\_\_ > \_\_\_\_\_ > \_\_\_\_\_ > \_\_\_\_\_

**5.- Lee y resuelve:**

Si en mi alcancía tengo 100 soles, luego coloco S/ 15, 5 y mi madrina en mi cumpleaños me regala S/ 84,70 para guardar en mi alcancía. ¿Ahora cuánto tengo ahorrado?

**Respuesta:** Tengo ahorrado \_\_\_\_\_ soles.