



SDN SUMBERSAWIT 3

KELAS 1 TEMA 2

MAT, SBDP, PJOK

Soal Pilihan Ganda



Kalimat penjumlahan kedua kelompok apel adalah ...

- a. $5 + 3$
- b. $5 + 2$
- c. $6 + 2$

2. Perhatikan gambar berikut!



Kalimat pengurangan yang tepat dari gambar tersebut adalah

- a. $5 - 1 = 4$
- b. $5 - 2 = 3$
- c. $5 - 3 = 2$

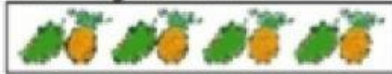
3. Terdapat 2 bunga mawar di halaman.

Uni menanam 3 bunga mawar lagi.

Jumlah bunga mawar di halaman adalah

- a. 5
- b. 6
- c. 7

4. Perhatikan gambar berikut!






Pola barisan gambar tersebut adalah

- a.
- b.
- c.


5. Perhatikan gambar berikut!






Pola barisan gambar tersebut adalah

- a. 
- b. 
- c. 

6. Perhatikan gambar berikut!



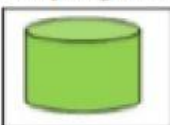


Pola barisan gambar tersebut adalah

- a. 
- b. 
- c. 




7. Jumlah sisi pada tabung adalah

- a. satu
- b. dua
- c. tiga

8. Berikut ini yang *bukan* gambar tabung adalah

- a. 
- b. 
- c. 

9. Latihan yang membutuhkan kekuatan ditunjukkan pada gambar

- a. 
- b. 
- c. 

10. Perhatikan gambar berikut!



Alat yang digunakan pada latihan di atas adalah

- a. gada
 - b. simpai
 - c. Tongkat
11. Posisi tangan saat latihan mendorong dua tangan adalah
- a. kedua tangan saling berpegangan
 - b. kedua tangan memegang bahu lawan
 - c. kedua telapak tangan saling menempel

12. Perhatikan gambar berikut!



Latihan pada gambar di atas adalah

- a. membungkukan badan
 - b. meliukkan badan
 - c. memutar badan
13. Yang merupakan gambar krayon adalah

a.



b.



c.






14. Contoh cetakan untuk mencetak gambar adalah

- a. pelepah pisang
 - b. kertas gambar
 - c. kanvas
15. Lonceng bunyinya ...
- a. dug..dug..dug..
 - b. jreng..jreng..jreng..
 - c. teng..teng..teng..
16. Bunyi alat musik dapat kita dengar dan ...
- a. lihat
 - b. tirukan
 - c. amati
17. Contoh gerak cepat adalah
- a. kura-kura merangkak

- b. kucing berlari
- c. siput berjalan

18. Gambar berikut yang menunjukkan gerakan lutut adalah

- a. 
- b. 
- c. 



19. Salah satu cara membuat boneka dari kulit jagung adalah

- a. menanam biji jagung
- b. mencuci biji jagung
- c. menggunting kulit jagung

20. Contoh karya seni yang dibuat dari kulit jagung adalah


- a. guci
- b. kendi
- c. boneka

Soal Isian

1.  +  =

2. 
 Banyaknya tas ada ...

3. Perhatikan gambar berikut!
 
 Pola dari barisan gambar tersebut adalah

4. Perhatikan gambar berikut!
 
 Pola dari barisan gambar tersebut adalah

5. Perhatikan gambar berikut!
 
 Benda tersebut berbentuk