


NÚMEROS DECIMALES EN LA RECTA

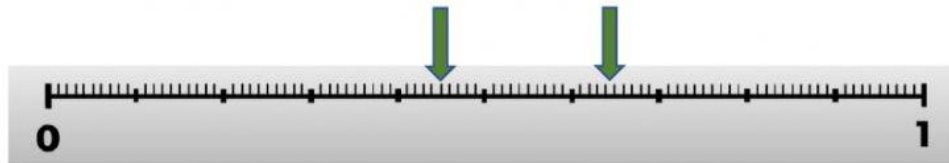
Vuelve a ver el vídeo de Daniel Carreón, que vimos el día de ayer, sobre los decimales en la recta numérica. Después responde. Cada recta numérica tiene dos flechas, arrastra el decimal hasta la flecha correcta, colocando el decimal del lado derecho de la flecha como en el ejemplo.



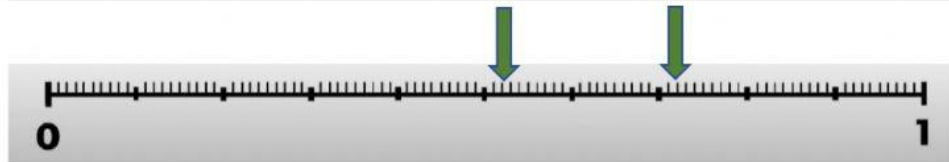
A 0.28




B 0.45



D 0.72




E 0.3



F 0.15



G 0.9



H 0.325



I 0.88

