

NAMA: _____

KELAS: _____

Tuliskan objek berikut sama ada panjang, pendek, tinggi, atau rendah.



Segulung tali



Kucing



Pokok kelapa



Bangunan



pensel




Tali skip



Berus gigi



Reben



Lampu meja

NAMA: _____

KELAS: _____

Isi jawapan dengan jawapan yang betul.



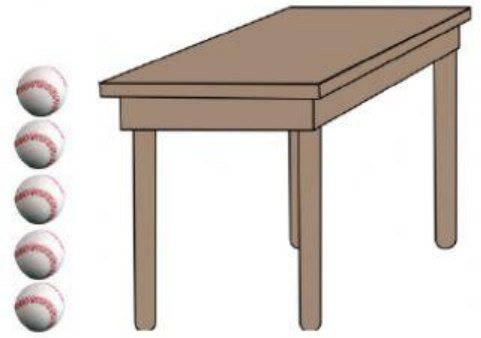

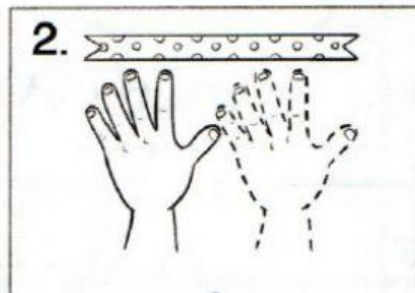

Panjang pembaris sama dengan



Tinggi pasu sama dengan



Padankan.



Tinggi meja sama dengan



Panjang paku sama dengan

