


CUADRILATEROS

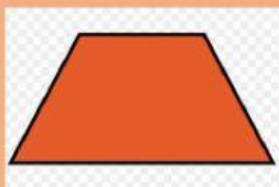
1. También se lo llaman porque tiene ángulos.
2. Los cuadriláteros se dividen en y .
3. Arrastre a la clase a la que pertenece y luego su nombre

PARALELOGRAMOS

NO PARALELOGRAMOS



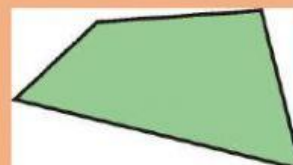
rombo



cuadrado



trapezoide



trapecio

4. Observe el gráfico y escriba a qué figura plana pertenece.

