











¿CUÁNTO DINERO HAY?

1. Contesta utilizando cifras.
2. No dejes ningún campo sin rellenar (puede que sea 0).

 <p>_____ € y _____ céntimos</p>	 <p>_____ € y _____ céntimos</p>
 <p>_____ € y _____ céntimos</p>	 <p>_____ € y _____ céntimos</p>
 <p>_____ € y _____ céntimos</p>	 <p>_____ € y _____ céntimos</p>
 <p>_____ € y _____ céntimos</p>	 <p>_____ € y _____ céntimos</p>
 <p>_____ € y _____ céntimos</p>	 <p>_____ € y _____ céntimos</p>

¿Con qué monedas pagarías el precio exacto de...?



1,15 €


☐

☐

☐

☐


0,75 CENT


☐

☐

☐

☐


6,10 €


☐

☐

☐

☐


2,75 €


☐

☐

☐

☐