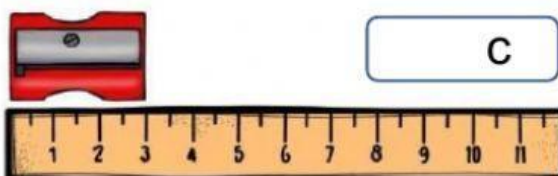

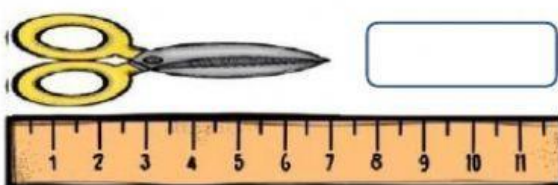


1 Observa la regla y escribe cuántos centímetros mide cada objeto.



C



Largo: _____ cm

Ancho: _____

2 Estima cuánto mide y une con la medida que creas que

3 cm

40 cm

15 cm

tenga.



3 María tiene dos reglas: Una de 20 cm y otra de 50 cm
¿Cuánto medirán las dos juntas?



$$\square \square \square = \square$$

EL METRO

Matemáticas
Repaso

4 Estima lo que crees que mide cada cosa y une.



20 metros



menos de un



4 metros

5 Elige qué instrumento de medida utilizarías para medir estos objetos y en qué unidad de medida lo haría



