

# MATEMÁTICAS

1.

En el rally de Orense han participado 58 coches menos que en el de A Coruña. Si en el de A Coruña eran 125 coches ¿cuántos coches han participado en el de Orense?

Datos:

Rally de Orense:  coches  
menos que en A Coruña

Rally A Coruña:  coches



Operación:


Solución: Han participado  coches.

2.

Aproxima a las decenas

126	
234	
658	



3.





Aproxima a las centenas

189	
678	
945	

[Haz clic para ver un vídeo explicativo de las aproximaciones](#)

4.


Fijate en los números de estas matrículas y escribe P (si es par) o I (si es impar).

 7587 KUJ	<input type="text"/>
 5457 FRE	<input type="text"/>
 9268 ERT	<input type="text"/>
 3345 DER	<input type="text"/>


 6238 YHU	<input type="text"/>
 0123 CVG	<input type="text"/>
 1458 MKO	<input type="text"/>
 7789 RFT	<input type="text"/>

5.

Escribe dos matrículas que sean capicúa siguiendo las indicaciones.

	<input type="text"/>	<input type="text"/>	<input type="text"/>	<input type="text"/>	RTR
---	----------------------	----------------------	----------------------	----------------------	-----

La cifra de las unidades es impar mayor que 7, y la decena es par menor que 4.

	<input type="text"/>	<input type="text"/>	<input type="text"/>	<input type="text"/>	KTK
---	----------------------	----------------------	----------------------	----------------------	-----

La cifra de las centenas es par, mayor que 6. La de las unidades es el doble de 2.