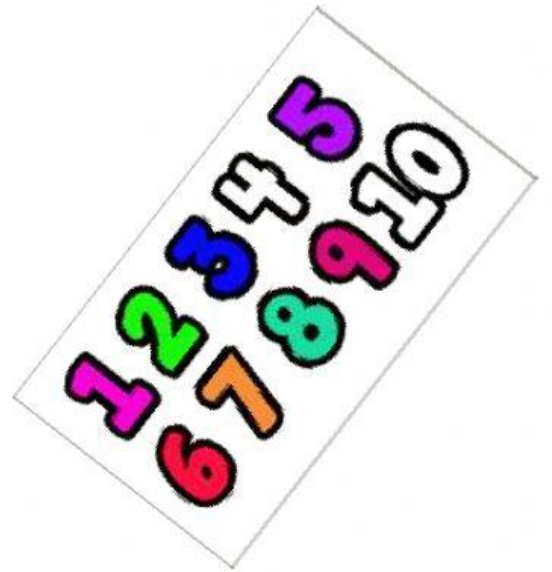


Une cada operación con su resultado. Fíjate si es una suma o una resta.

$14 + 8 =$	3
$8 - 2 =$	14
$9 + 8 =$	15
$7 + 7 =$	20
$13 - 4 =$	8
$20 - 12 =$	17
$9 + 6 =$	10
$15 - 5 =$	22
$7 + 13 =$	9
$14 - 11 =$	6








Completa la siguiente recta numérica

10			13				17		19	
----	--	--	----	--	--	--	----	--	----	--

Pon los palillos en la operación correspondiente y escribe el resultado

$10 + 10 + 10 =$	$10 + 20 + 20 =$	$30 + 10 =$
$20 + 20 =$	$10 + 10 + 10 + 10 =$	

Tengo 4 castañas y mi madre me da otras 4. ¿Cuántas castañas tengo ahora?

Tengo \_\_\_\_\_ 

Para la merienda tengo 12 uvas y me como 4. ¿Cuántas uvas me quedan?

Me quedan \_\_\_\_\_ 

Tengo 5 caramelos y me compro 10 más. ¿Cuántos caramelos tengo?

Ahora tengo \_\_\_\_\_ 