




























RAZONAMIENTO MATEMÁTICO-VERBAL

**Calcula la suma entre
estos objetos y encuentra
el valor de cada uno**

					=	21	volante: _____
					=	20	rueda: _____
					=		reloj: _____
					=		móvil: _____
					=	50	botella: _____
	25	36					

BAIMENA: / AUTORIZADO POR :

© IBAIZABAL/FOTOKOPIATZEKO MATERIALA

PROYECTO i.blai PROIEKTUA