



INTERSECCIÓN DE CONJUNTOS

1- Observa los elementos de cada conjunto:

$$P = \{3, 4, 6, 9\}$$

$$Q = \{7, 4, 3, 1, 0\}$$

$$R = \{7, 5, 0, 2\}$$

$$F = \{8, 9, 3, 0, 1\}$$


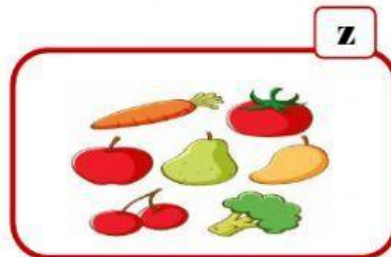

Completa cada conjunto, recuerda separar los elementos con una coma:

$$P \cap F = \{ \quad \}$$

$$R \cap Q = \{ \quad \}$$

$$F \cap Q = \{ \quad \}$$

2- Observa los siguientes conjuntos.



Responde falso o verdadero.

- El conjunto $H \cap R$ tiene 2 elementos.
- El conjunto $Z \cap R$ tiene 4 elementos.
- El conjunto $R \cap H$ tiene 1 elemento.