



SUKU DINAS PENDIDIKAN WILAYAH II JAKARTA BARAT
SATUAN PELAKSANA PENDIDIKAN KECAMATAN PALMERAH
Penilaian Akhir Semester (PAS) I Ganjil
KURIKULUM 2013
Tahun Pelajaran 2020-2021



Nama : _____
Kelas / Semester : II / 1
Tema : 2.
Termin : 2
Tanggal :


MATEMATIKA

I. Berilah tanda silang (x) pada huruf A, B, atau C pada jawaban yang tepat !


KD. 3.9

1. Benda berikut yang memiliki 3 sisi, sudut dan 3 titik sudut adalah ...

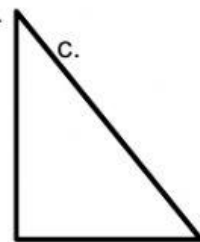
a.



b.




c.



2. Salah satu ciri – ciri kubus adalah ...

- a. memiliki 8 rusuk
- b. semua rusuk sama panjang
- c. memiliki 6 titik rusuk

3.



Gambar di samping memiliki ciri

- a. ke empat sisinya sama panjang
- b. dua pasang sisi sama panjang
- c. ke empat sisi panjang – panjang

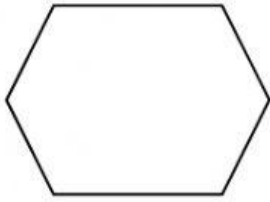
4. Aku adalah sebuah bangun datar yang memiliki 3 sisi, 3 titik sudut, dan 3 sudut. Aku adalah bangun

- a. persegi
- b. segitiga
- c. persegi panjang

5. Contoh benda yang berbentuk kubus adalah

- a. rubik
- b. bola
- c. kaleng susu

6.



Perhatikan bangun datar di samping !

Bangun datar di samping memiliki sisi, sudut, dan titik sudut.

a. 4, 4, 4

b. 5, 5, 5

c. 6, 6, 6

II. Isilah titik-titik di bawah ini dengan jawaban yang singkat dan tepat !

KD. 3.9

7. Bangun datar yang memiliki 5 sudut dan 5 sisi adalah bangun

8. Benda di sekitar kita yang menyerupai benda balok adalah