



SALA GOOGLE!



Nível IV
Ensino Infantil


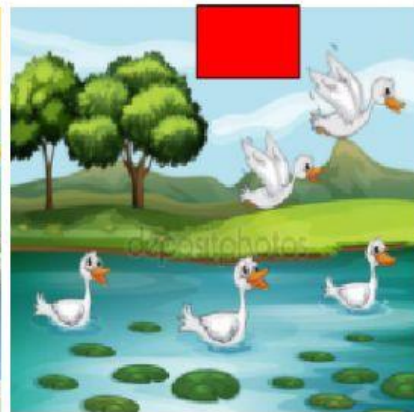
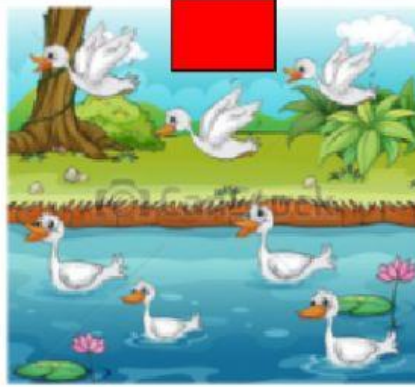

https://www.liveworksheets.com/worksheets/pt/Matem%C3%A1tica/N%C3%BAmoros_e_quantidade/Atividades_de_Portugu%C3%AAs_e_Matem%C3%A1tica_N%C3%ADvelIV_km31313kk

Aprendendo a contar

Vamos colocar os números na sequência correta

20	8	21	18	15	24
17	9	2	10	23	19
13	14	5	16	7	4
12	1	3	22	11	6

Quantos patinhos tem em cada imagem?



6

8

7

5

10

3

Um jogo que testará o método lógico de pensamento do aluno. Este é um jogo exige que siga os números ao lado da tela e combine-os de acordo. Além de combinar os números, mas também as cores, é um jogo interativo que desenvolve suas habilidades em associação.

<http://duckiedeck.com/play/safe>