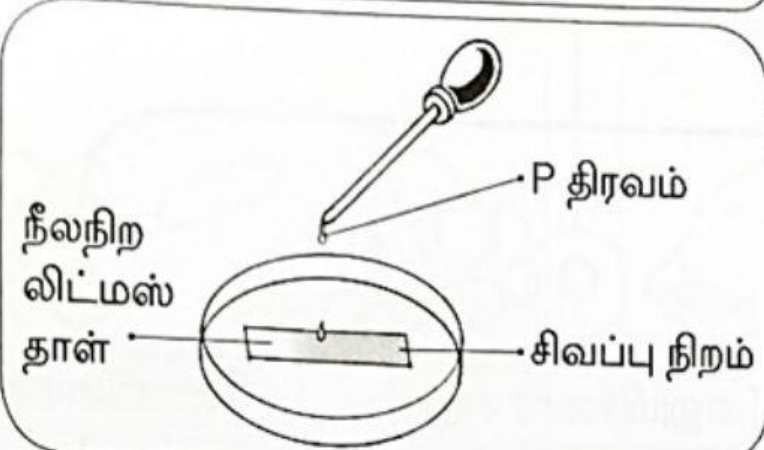
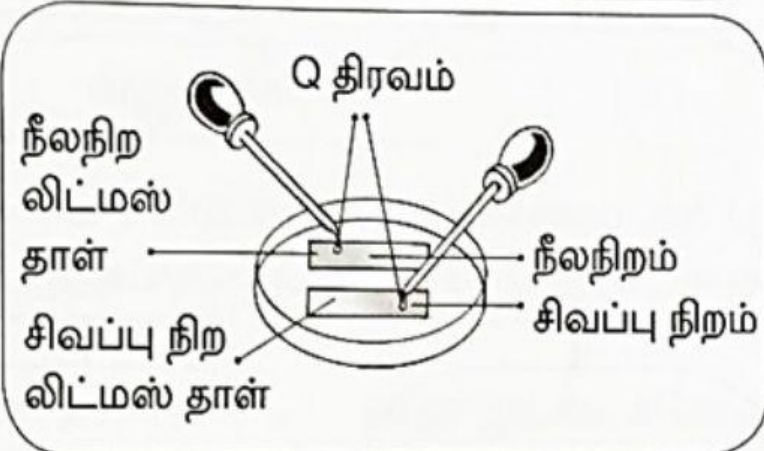
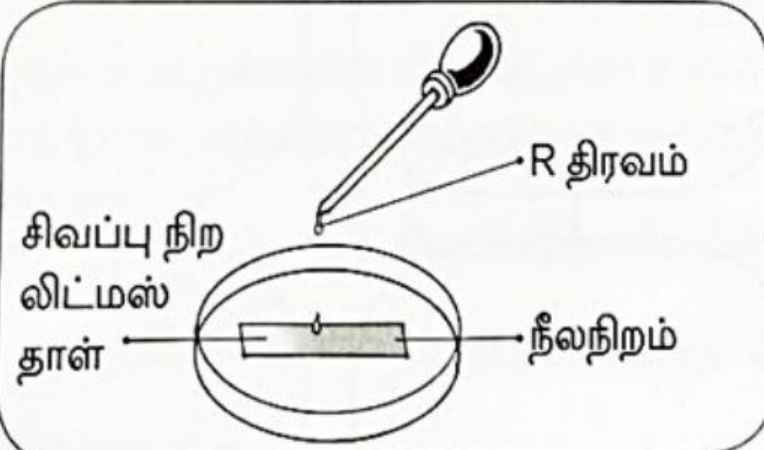
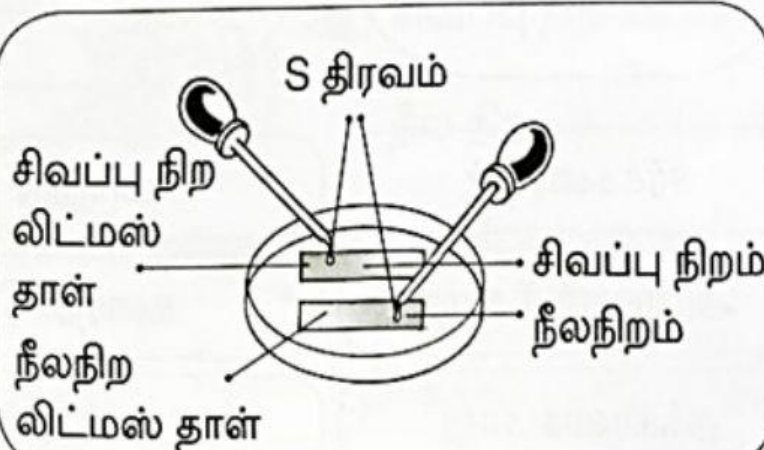


பொருள்களின் இரசாயனத்தன்மையைக் கண்டறிந்து பரிசோதனையின் முடிவை எழுதுக.

எண்	பரிசோதனை	பரிசோதனை முடிவு
1	 <p>நீலநிற லிட்மஸ் தாள்</p> <p>P திரவம்</p> <p>சிவப்பு நிறம்</p>	<p>P திரவம்</p> <p>.....</p> <p>தன்மையுடையது.</p>
2	 <p>நீலநிற லிட்மஸ் தாள்</p> <p>சிவப்பு நிற லிட்மஸ் தாள்</p> <p>நீலநிறம்</p> <p>சிவப்பு நிறம்</p> <p>Q திரவம்</p>	<p>Q திரவம்</p> <p>.....</p> <p>தன்மையுடையது.</p>
3	 <p>சிவப்பு நிற லிட்மஸ் தாள்</p> <p>R திரவம்</p> <p>நீலநிறம்</p>	<p>R திரவம்</p> <p>.....</p> <p>தன்மையுடையது.</p>
4	 <p>சிவப்பு நிற லிட்மஸ் தாள்</p> <p>நீலநிற லிட்மஸ் தாள்</p> <p>சிவப்பு நிறம்</p> <p>நீலநிறம்</p> <p>S திரவம்</p>	<p>S திரவம்</p> <p>.....</p> <p>தன்மையுடையது.</p>