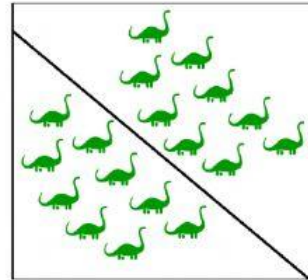

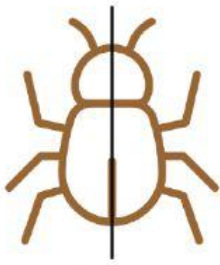


FRACCIONES

Selecciona los dibujos o conjuntos fraccionados en **medios**.



Selecciona el medio $\frac{1}{2}$ de N.



Selecciona el medio $\frac{1}{2}$ de r.



Selecciona el medio $\frac{1}{2}$ de c.



Selecciona el medio $\frac{1}{2}$ de V.



Selecciona el medio $\frac{1}{2}$ de R.

