

Recuerda: repartir en 2 partes iguales es calcular la mitad.

Para calcular la mitad dividimos entre 2

Calcula la mitad de los siguientes números.

$20 =$

$36 =$


$14 =$

$24 =$

$22 =$


$18 =$

Luis tiene 14 galletas y Blanca tiene la mitad que él. ¿cuántas galletas tiene Blanca?



Blanca tiene galletas.

Marcos ha vendido 24 camisetas rojas y la mitad de camisetas verdes. ¿cuántas camisetas verdes ha vendido?



Ha vendido _____ camisetas verdes.

Calcula la mitad de los números siguientes y completa.

$84 \Rightarrow 42 \text{ y } 42 \Rightarrow \text{La mitad de } 84 \text{ es } 42$

$26 \Rightarrow _ \text{ y } _ \Rightarrow \text{La mitad de } 26 \text{ es } _.$

$68 \Rightarrow _ \text{ y } _ \Rightarrow \text{La mitad de } _ \text{ es } _.$

**Recuerda: repartir en 4 partes es calcular la cuarta parte.
Para calcular la cuarta parte dividimos entre 4**

Calcula la cuarta parte de los siguientes números:

Cuarta parte de 20 =

Cuarta parte de 16 =

Cuarta parte de 24 =

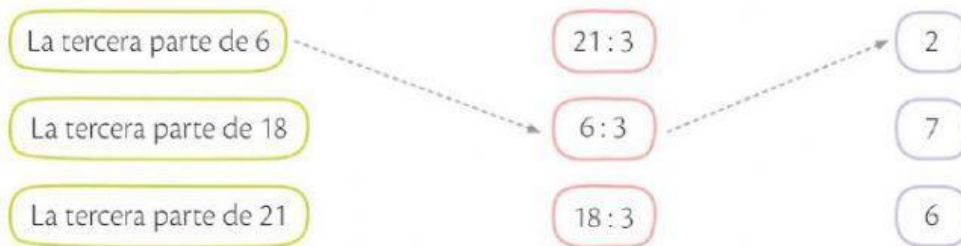
Cuarta parte de 32 =

Cuarta parte de 36 =

Cuarta parte de 40 =

Un tercio de un número se calcula dividiendo el número por 3.

Une:



Calcula:

La tercera parte de 3: =

La tercera parte de 9: =

La tercera parte de 12: =

La tercera parte de 15: =

Recuerda: dividir es repartir a partes iguales

Se escribe así $\Rightarrow 23 : 3 = 7$ Se lee así $\Rightarrow 23$ repartido entre 3 es igual a 7

resuelve:

14 : 7 =

40 : 8 =

21 : 3 =

20 : 5 =

90 : 9 =

35 : 7 =

Recuerda: para calcular el doble de un número hay que multiplicar por 2.

Para calcular el triple de un número hay que multiplicar por 3.

Resuelve:

Patricia pesa el triple que su perro Pancho. Si Pancho pesa 12 kg, ¿cuánto pesa Patricia?

Patricia pesa _____ kg

En la fiesta de fin de curso hay 28 sandwiches de jamón y queso y el doble de sándwich de chorizo. ¿cuántos sándwiches hay en total?

En total hay _____ sandwiches.

A Juan le regalaron 5 caramelos y a Luis el doble. ¿cuántos caramelos tiene Luis?

Luis tiene _____ caramelos.

Pedro tiene 8 años y su hermano Julián tiene el doble de años que Pedro. ¿Qué edad tiene Julián?

Julián tiene _____ años.