



O que usamos para medir o tempo?


- Horas
- Minutos
- Segundos
- Dias
- Meses
- Anos



### Relações de medidas de tempo

1 minuto	<b>60</b> segundos
1 hora	<b>60</b> minutos
1 dia	<b>24</b> horas
1 semana	<b>7</b> dias

## ARRASTE AS HORAS PARA OS RELÓGIOS CORRETOS



12:00

1:50

10:10

7:00

9:00

12:30

7:45

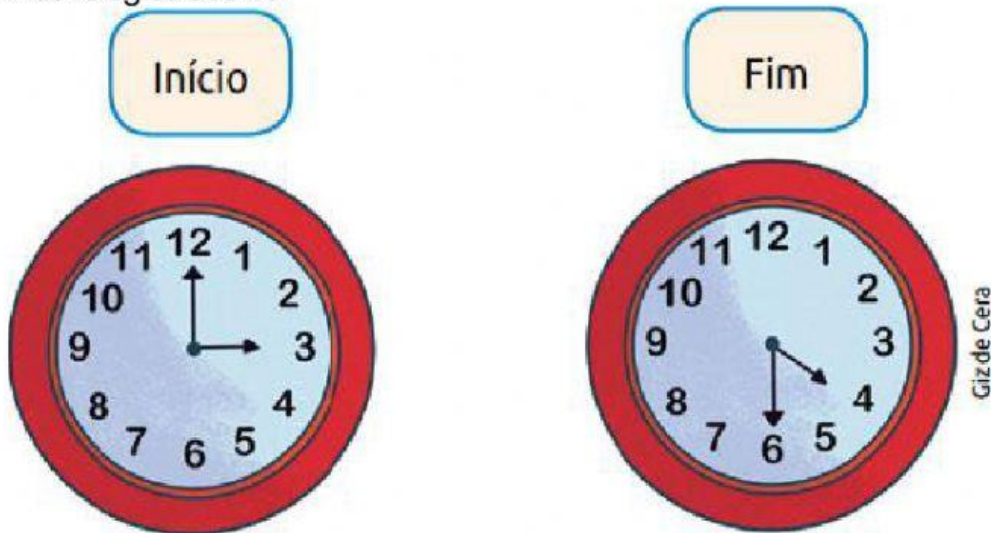
8:30

ASSISTA O VÍDEO E APRENDA A CALCULAR USANDO HORAS



## MARQUE COM UM (X) A RESPOSTA CORRETA


Ao fazer sua tarefa de casa, Felipe observou, no relógio, os horários de início e fim, conforme mostram os relógios abaixo:



Quanto tempo Felipe demorou para fazer sua tarefa de casa? Marque a resposta correta:

- A. 1 hora e 15 minutos.
- B. 1 hora e 30 minutos.
- C. 2 horas e 30 minutos.
- D. 5 horas.

O relógio abaixo marca exatamente 10 horas e 10 minutos, mas está adiantado 20 minutos. Que horas são então? Marque a resposta correta:



- ☐ 10 horas
- ☐ 09 horas e 50 minutos
- ☐ 10 horas e 30 minutos