






### LOS GRUPOS DE SERES VIVOS

Selecciona el grupo al que pertenecen estos seres vivos:

Selecciona los cuadros correctos:

	Fabrican su propio alimento	Se alimentan de otros seres vivos	Pueden desplazarse
<b>ANIMALES</b>			
<b>PLANTAS</b>			
<b>ALGAS</b>			
<b>HONGOS</b>			
<b>BACTERIAS</b>			

Selecciona las oraciones correctas:

- Casi todos los animales y plantas se pueden ver a simple vista.	
- Para ver algunas algas necesitamos microscopio.	
- Las algas tienen raíces como las de las plantas.	
- Hay algas en el mar y también en agua dulce.	
- Dentro de los hongos hay un grupo que son las algas.	
- Dentro de los hongos hay tres grupos: las setas, los mohos y las levaduras.	
- Algunas bacterias habitan dentro de otros seres vivos.	
- Todas las bacterias son perjudiciales.	