



I. Selecciona la respuesta correcta:

Observa y responde:



1. ¿Cuántas figuras hay en la secuencia?

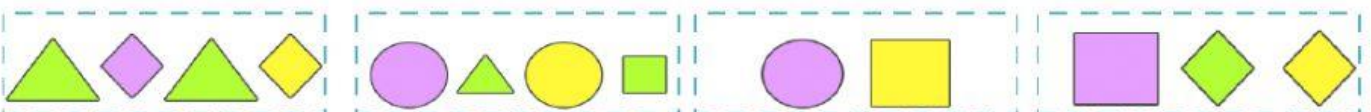
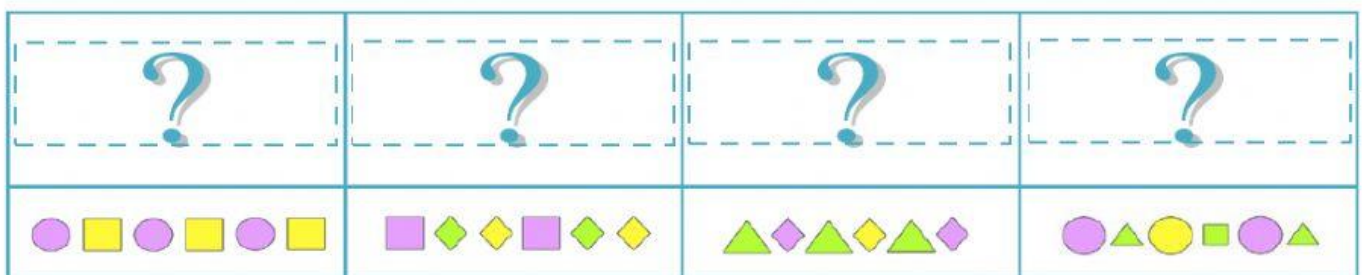
A. 8

B. 9

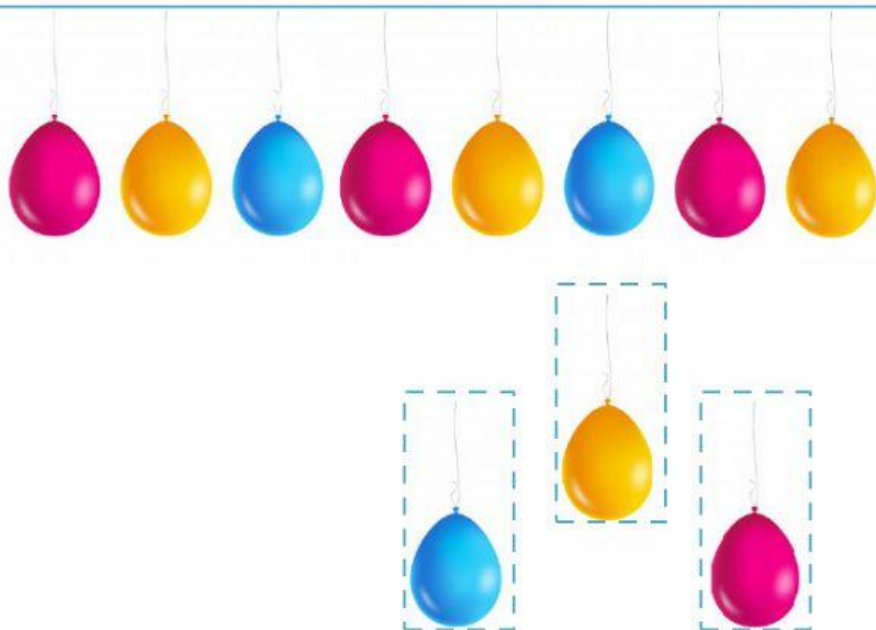
2. ¿Qué figura viene después del cuadrado?



II. Descubre el patrón y arrástralo hasta la secuencia que le corresponde:



III. Arrastra los globos para completar la secuencia:



IV. Selecciona el patrón las secuencias, puedes usar la cinta numerada:

$$3 - 6 - 9 - 12 - 15$$

Sumar 3

Restar 3

1	2	3	4	5	6	7	8	9	10	11	12	13	14	15	16	17	18	19	20
---	---	---	---	---	---	---	---	---	----	----	----	----	----	----	----	----	----	----	----

$$12 - 10 - 8 - 6 - 4$$

Sumar 2

Restar 2

1	2	3	4	5	6	7	8	9	10	11	12	13	14	15	16	17	18	19	20
---	---	---	---	---	---	---	---	---	----	----	----	----	----	----	----	----	----	----	----

VI. Resuelve este problema.

Luis vive en la casa con el techo rojo; Rosalía, que es su prima, vive lejos.

Rosalía quiere enviarle un regalo, pero no sabe la dirección completa.

Las casas siguen un patrón, ¿qué número tiene la casa de Luis? Escribe la respuesta, completando la dirección de Luis.

Los Andinitos



Respuesta: La dirección de Luis es:

