



1 ¿Cuántos insectos hay? Cuenta y completa.



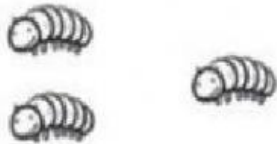
$$\square + \square = \square$$

Hay hormigas.



$$\square + \square = \square$$

Hay mariposas.



$$\square + \square = \square$$


Hay orugas.



$$\square + \square = \square$$

Hay moscas.


2 ¿Cuántas copas hay al final? Observa y completa.



$$\square + \square = \square$$

Al final hay copas.

1 Cuenta y completa.





Hay  y .

$$10 = \square + \square$$

—

Arrastra los elementos

Un  a la derecha del .

Una  a la izquierda del .

