

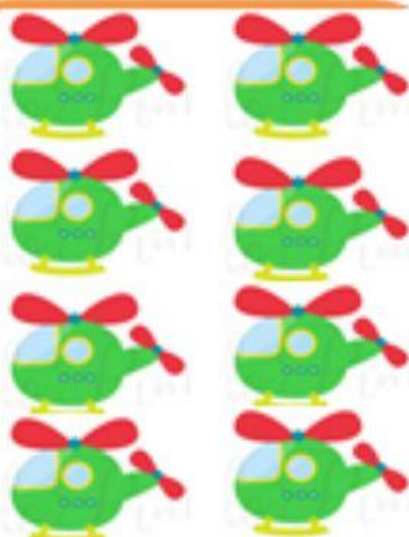



ayo hitung dan beri tanda  $>$  untuk yang lebih banyak  $<$  untuk yang lebih sedikit atau  $=$  untuk yang


 $>$ 
 $<$ 
 $=$ 

 $>$ 
 $<$ 
 $=$ 

 $>$ 
 $<$ 
 $=$ 

 $>$ 
 $<$ 
 $=$ 
