



SUKU DINAS PENDIDIKAN WILAYAH II JAKARTA BARAT
SATUAN PELAKSANA PENDIDIKAN KECAMATAN PALMERAH
Penilaian Akhir Semester (PAS) I Ganjil
KURIKULUM 2013
Tahun Pelajaran 2020-2021



Nama : _____
Kelas / Semester : II / 1
Tema : 1. Hidup Rukun
Termin : II
Tanggal :

MATEMATIKA 3.1


I. Berilah tanda (X) pada huruf A,B, atau C di depan huruf yang paling benar !

1. Nilai tempat angka 6 pada bilangan 647 adalah

- A. puluhan
- B. ratusan
- C. satuan

2. Bilangan 758 dibaca

- A. tujuh ratus lima puluh delapan
- B. delapan ratus lima puluh delapan
- C. sembilan ratus lima puluh delapan

3. 



Lambang bilangan sesuai banyak kubus pada gambar di atas adalah

- A. 446
- B. 546
- C. 646

4. Aku adalah bilangan tiga angka. Angka 2 menempati nilai tempat ratusan. Angka 8 menempati nilai tempat puluhan. Angka 7 menempati nilai tempat satuan. Aku adalah bilangan
- A. 187
B. 287
C. 387
5. Angka 7 pada bilangan 574 menempati nilai tempat
- A. ratusan
B. puluhan
C. satuan

II. Isilah titik-titik di bawah ini dengan benar!

6. Lambang bilangan delapan ratus lima puluh delapan adalah
- 7.



Angka yang menempati nilai tempat puluhan pada bilangan sesuai banyak kubus adalah

8. Aku adalah sebuah bilangan. Angka 7 menempati nilai satuan. Angka 8 menempati nilai puluhan. Sedangkan untuk nilai ratusan adalah selisih dari angka puluhan dan satuan. Bilangan tersebut adalah