

QUINTO DE BÁSICA

REPASO MATEMÁTICA - PARCIAL 1

Nombre:

Fecha:

1.- Resuelve las siguientes divisiones y selecciona la respuesta correcta.

$82 \div 5$	$119 \div 13$	$306 \div 22$	$772 \div 40$

2.- Escribe en números las siguientes cantidades.

- Doscientos mil ochocientos
- Tres millones cuatrocientos mil
- Quinientos setenta y dos millones
- Diez millones diez mil diez

3.- Une con líneas según corresponda.

$2CM + 3 UM =$	20 300 500
$200\ 000 + 300 =$	200 300
$5UM + 3DM + 2CM =$	203 000 000
$20\ 000\ 000 + 300\ 000 + 500 =$	235 000 000

4.- Arrastra las siguientes cantidades y en los cuadros de abajo ordénalas de menor a mayor.

5 060 780	560 780	5 006 780	506 780

5.- Completa la siguiente tabla de redondeo.

Redondear a la...	DM	Cm	Um
98 607 500			
123 478 220			

6.- Arrastra el número romano a su equivalente número arábigo.




32	DXCV	250	MMCCIX
XII	CCL	CDL	595
450	2209	XXXII	12

7.- Une con líneas según corresponda

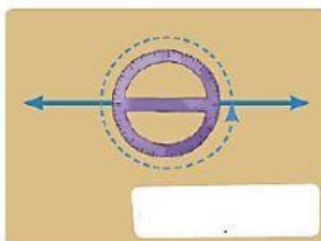
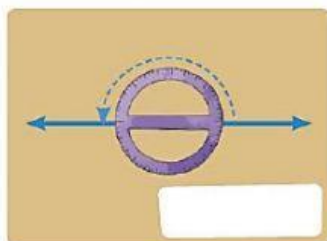
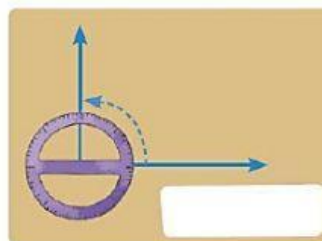
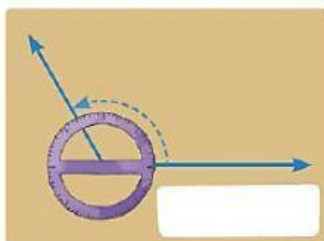
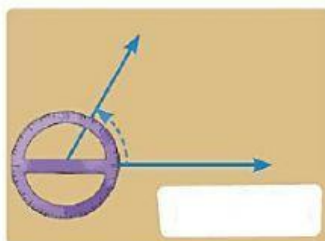
Rectas paralelas

Rectas perpendiculares

Rectas secantes



8. - Selecciona el nombre de ángulo que corresponde.



10. - Lee la siguiente información y completa la frecuencia absoluta.

En una encuesta realizada a 100 latinos con la pregunta: ¿Producto que más se usa en casa?.
La mitad dijeron "TV" 32 dijeron "Smartphone" y el resto dijo "Cocina"

Producto	Frecuencia absoluta
TV	
Smartphone	
Cocina	



Realizado por Lic. Jorge Vaca G.
2019