



SEMESTRE AGOSTO - DICIEMBRE 2020

FQE



3er. SEMESTRE

QFB Martha Silvia González Guzmán

Fecha _____

Nombre _____ Grupo _____ N° L. _____

I. Clasifica las siguientes sustancias indicando el número que indica su pH
Fijate en el color de cada círculo y compáralo con la tabla de colores que está en la parte de abajo

Vinagre	Amonio	Ácido estomacal	Agua	Café	Blanqueador	Bicarbonato de sodio
						









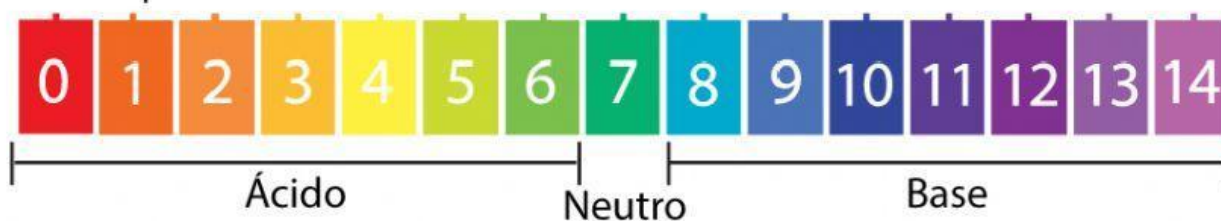
Agua de mar	Jitomate	Ácido de batería	Jabón	Limón	Antiácidos estomacales	Leche	Destapa drenaje (NaOH)
							

Tabla de pH



II. Clasifica los siguientes compuestos en ácidos y alcalinos:

Recuerda los **compuestos ácidos** empiezan con "H"

Los **compuestos alcalinos** terminan con "OH"

Compuestos ácidos	Compuestos alcalinos

