




## Analogías numéricas



1. Resuelve las siguientes analogías numéricas de adición y sustracción.

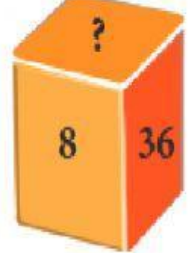
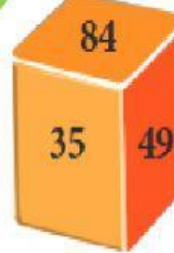
Calcula el número que falta.



2. Calcula el número que falta.




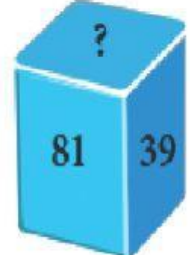
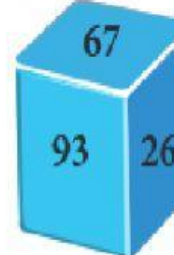
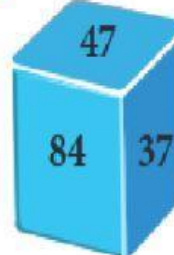
3. Calcula el número que falta.



4. Calcula el número que falta.



5. Calcula el número que falta.



ABC