

LATIHAN PAS SEMESTER GASAL 2020/2021

KELAS @

TEMA 4 : Matematika, SBdP

Muatan Pelajaran Matematika

Kerjakan soal-soal berikut ini sesuai dengan bentuk soalnya pada lembar jawab yang tersedia!

KD 3.9

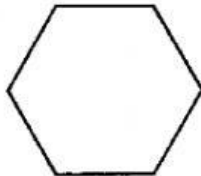
1. Perhatikan gambar berikut!



Banyak ruas garis pada gambar di samping adalah

- A. 3
- B. 4
- C. 5

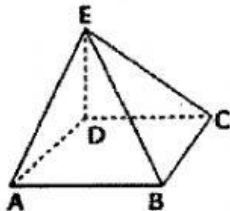
2. Perhatikan gambar berikut!



Banyak ruas garis pada gambar di samping adalah

- A. 6
- B. 8
- C. 10

3. Perhatikan gambar berikut!



Berikut ruas garis yang membentuk bangun ruang di samping adalah....

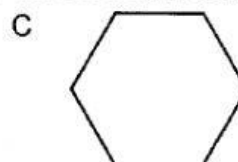
- A. AC
- B. BD
- C. CE

KD 3.10

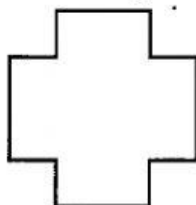
4. Berikut merupakan ciri-ciri bangun datar:

- 1) memiliki 5 sisi
- 2) memiliki 5 sudut
- 3) memiliki 5 titik sudut

Gambar bangun datar yang sesuai berdasarkan ciri-ciri di atas adalah



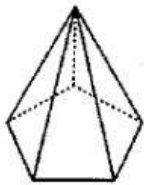
5. Perhatikan gambar berikut ini!



Banyak titik sudut bangun datar di samping adalah

- A. 12
- B. 10
- C. 8

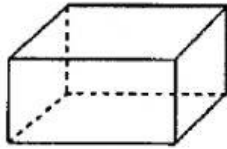
6. Perhatikan gambar berikut!



Ciri-ciri bangun ruang di samping adalah

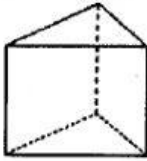
- A. memiliki 12 rusuk, 6 sisi, dan 8 titik sudut
- B. memiliki 10 rusuk, 8 sisi, dan 6 titik sudut
- C. memiliki 10 rusuk, 6 sisi, dan 6 titik sudut

Perhatikan gambar berikut!

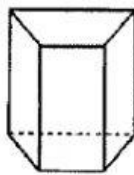


7. Bangun ruang di atas memiliki banyak sisi yang sama dengan bangun ruang....

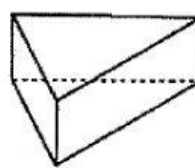
A.



B.

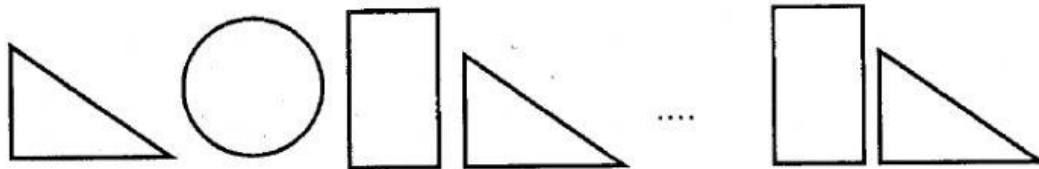


C.



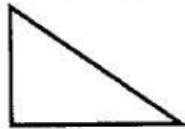
KD 3.11

Perhatikan gambar berikut!



8. Gambar yang sesuai untuk melengkapi pola di atas adalah

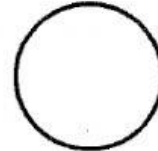
A.



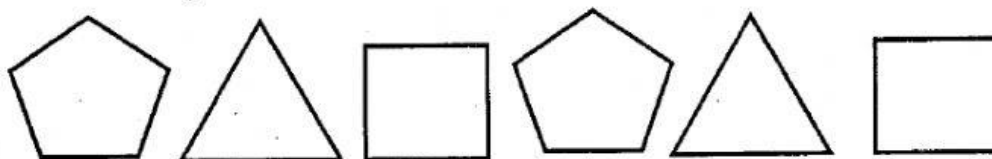
B.



C.



Perhatikan gambar berikut!

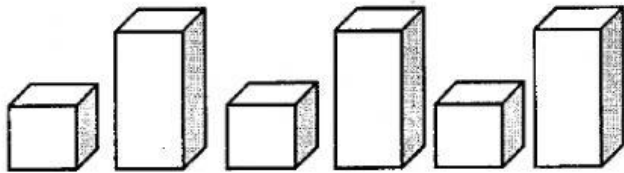


9. Pola bangun datar di atas tersusun atas

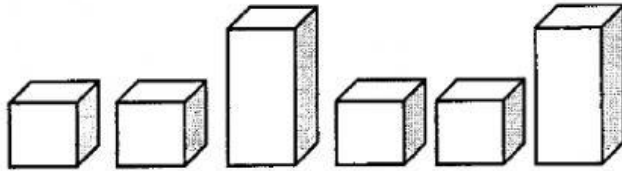
- A. segi lima - segitiga - persegi
- B. segi lima - segitiga - belah ketupat
- C. segi lima - segitiga - persegi panjang

10. Pola barisan balok - balok - kubus ditunjukkan oleh

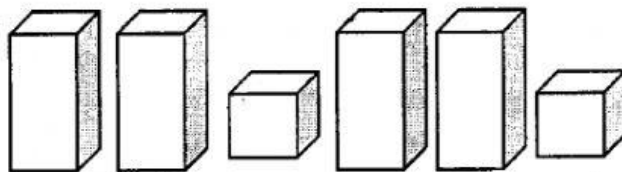
A.



B.



C.




Muatan Pelajaran SBdP

KD 3.1

Perhatikan gambar sketsa di bawah ini!

11.



Alat dan bahan yang digunakan untuk menggambar sketsa adalah

A. pensil dan buku gambar

B. krayon dan penggaris

C. cat air dan rautan

12.

Yang merupakan hasil karya seni dua dimensi adalah

A. guci

B. patung

C. lukisan

13.

Yang merupakan hasil karya seni tiga dimensi adalah

A. lukisan dari kulit telur

B. gambar pemandangan

C. mobil-mobilan dari plastisin

KD 3.2

Perhatikan potongan syair lagu membuang sampah di bawah ini!

Membuang Sampah


do = C 2/4 sedang Syair dan Lagu: A.T Mahmud

Jangan membuang sampah
Jagalah kebersihan di lingkunganmu
Sampah di rumahmu sampah di halaman
Sapu dan bersihkan buang di tempatnya
Sapu dan bersihkan buang di tempatnya




14. Kata yang tepat untuk melengkapi syair lagu di atas adalah...
- A. di mana-mana
 - B. sembarangan
 - C. di selokan
15. Orang yang sedang membawakan lagu dan diiringi dengan musik disebut seorang...
- A. penari
 - B. pelukis
 - C. penyanyi

KD 3.3

Perhatikan gambar di bawah ini dengan teliti!

16.  Gerakan tari pada gambar di samping merupakan tiruan dari gerakan....
- A. menanam padi
 - B. menyapu lantai
 - C. menyiram bunga

17. Ketika menari menggunakan pola lantai.
- Yang termasuk pola lantai lurus ke depan adalah

- A. 
- B. 
- C. 

18. Agar menjadi sebuah tarian, tiruan gerak tumbuhan harus....
- A. dibuang
 - B. dirangkai
 - C. dihentikan

KD 3.4

19. Berikut merupakan karya hiasan yang dibuat menggunakan bahan dasar alam adalah

A.



B.



C.



20. Perhatikan gambar berikut!



Bahan dasar yang digunakan untuk membuat kerajinan di atas adalah....

- A. manik-manik
- B. sedotan
- C. kerang

21. Perhatikan gambar berikut!



Gambar di atas menunjukkan salah satu langkah kerja dalam pembuatan kerajinan dari sabun batangan, yaitu

- A. melukis pola pada sabun
- B. mengukir sabun menggunakan pahat ukir
- C. menghaluskan permukaan sabun yang telah diukir