

1. Relaciona cada número decimal con su redondeo a la décima (los números del centro).

8,42

8,3

8,9

8,91

8,79

8,4

8,8

8,34

8,85

8,9

8,3

8,84

8,27

8,8

8,4

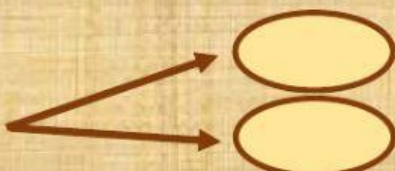
8,39

2. Completa la tabla

	7,89	6,81	12,24	72,07	99,91	123,85	39,94
REDONDEO A LA UNIDAD							
REDONDEO A LA DÉCIMA							

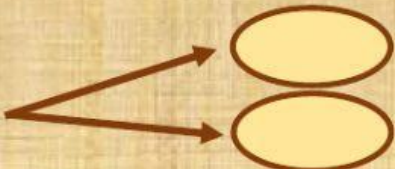
3. ¿Entre qué dos números enteros están estos números decimales?

a) 32,73



Aproxímalo a la unidad:

b) 12, 24



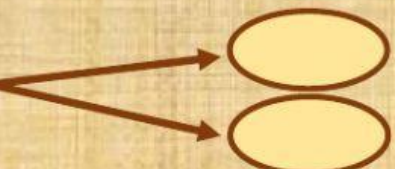
Aproxímalo a la décima:

c) 0,38



Aproxímalo a la unidad:

d) 7,91



Aproxímalo a la décima: