

# Taller Reproducción de los Animales

Valor 30 puntos

I. **Pareo.** Coloque en la línea del medio el número que relaciona las palabras de la izquierda con los conceptos de la derecha. (11 pts).


- |                    |       |  |
|--------------------|-------|--|
| 1. Ovíparo         | _____ | individuo que se desarrollan en un huevo pero fuera del vientre de la madre.     |
| 2. Vertebrados     | _____ | reproducción donde participa un macho con una hembra                             |
| 3. Gemación        | _____ | célula masculina.  |
| 4. Asexual         | _____ | organismo que se desarrollan dentro de un huevo, pero en el vientre de la madre. |
| 5. Óvulo           | _____ | capacidad de algunas especies para recuperar estructuras de su cuerpo pérdida.   |
| 6. Vivíparo        | _____ | Animales que poseen columna vertebral.   |
| 7. Sexual          | _____ | reproducción donde participa un solo individuo.                                  |
| 8. Ovovivíparos    | _____ | animales que no poseen columna vertebral.  |
| 9. Regeneración    | _____ | seres vivos que se desarrollan dentro del vientre de la madre.                   |
| 10. Espermatozoide | _____ | célula femenina.   |
| 11. Invertebrados  | _____ | formación de yemas o brotes sobre el organismo progenitor.                       |



**II. Parte:** Arrastra las imágenes de abajo e ubícalas en el cuadro que le corresponde. (5 pts.)




ovovivíparo




ovíparos



vivíparo



Regeneración



Gemación



**III. Sopa de letras.** Encuentra 5 animales de reproducción **ovíparos** (5 pts).

v	t	o	r	a	t	o	n	c
a	q	v	a	c	a	t	m	e
c	a	s	p	e	c	e	s	r
s	e	r	p	i	e	n	t	e
p	a	v	o	r	e	a	l	o
ñ	g	a	t	o	a	s	r	r
s	p	a	t	o	s	e	l	o
t	i	b	u	r	o	n	o	b
c	a	b	a	l	l	o	r	s
s	t	c	a	m	u	a	o	v
l	a	r	d	i	l	l	a	
t	o	r	t	u	g	a	p	t

