

# EVALUACIÓN DE MATEMÁTICA

## UNIDAD: 2 - AÑO: 3RO EGB

**Nombre:**

**Fecha:**

**1. INSTRUCCIÓN:** Escribe el número antecesor y sucesor (Recuerda separar con un espacio las unidades de mil)

Antecesor	Número	Sucesor
	79	
	100	
	499	
	1 001	
	4 500	

**2. INSTRUCCIÓN:** Selecciona el signo  $>$ ;  $<$  o  $=$  según corresponda.

Número	Signo	Número
50		220
305		503
2 200		999
4 060		4 060
7 740		7 704

**3. INSTRUCCIÓN:** Une con líneas según corresponda el número con su aproximación correcta.

**Número**

**Aproximación**

390

100

98

300

471

400

304

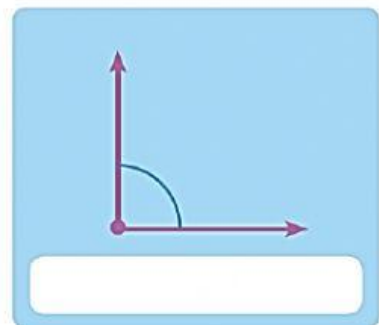
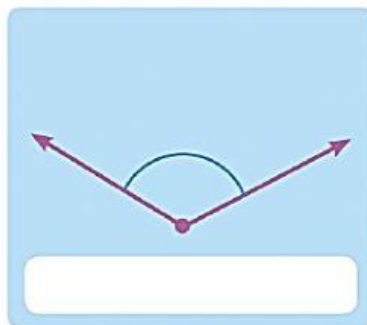
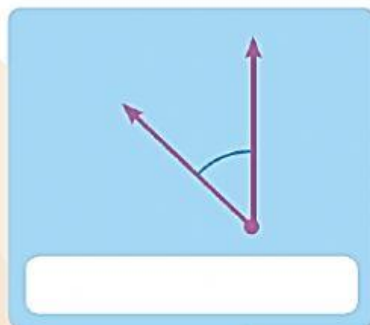
500

**4. INSTRUCCIÓN:** Arrastra el nombre correcto debajo de cada ángulo.

**RECTO**

**AGUDO**

**OBTUSO**



**5. INSTRUCCIÓN:** Selecciona la hora correcta.



**6. INSTRUCCIÓN:** Resuelve las siguientes sumas.

The grid contains four addition problems, each with a red plus sign and a blue underline:

- $$\begin{array}{r} 305 \\ + 94 \\ \hline \end{array}$$
- $$\begin{array}{r} 1668 \\ + 42 \\ \hline \end{array}$$
- $$\begin{array}{r} 555 \\ + 555 \\ \hline \end{array}$$
- $$\begin{array}{r} 3000 \\ + 7999 \\ \hline \end{array}$$

Below these is a diagram illustrating the associative property of addition:

$$(6 + 4) + (7 + 3)$$

Blue arrows point from the parentheses to two red circles, each containing a plus sign. A blue arrow then points from these two circles to a third red circle at the bottom, also containing a plus sign.