

Perímetro del Triángulo

1. Une según corresponda cada triángulo con su nombre

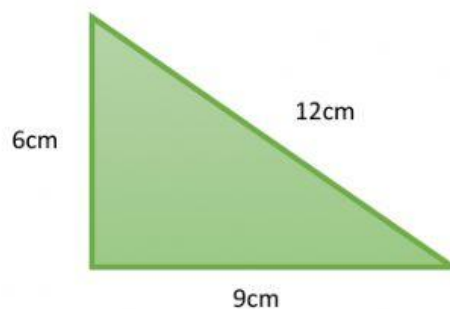
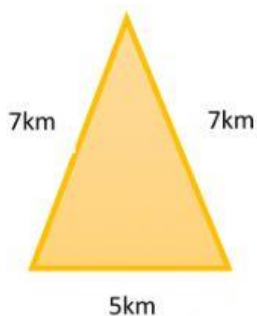
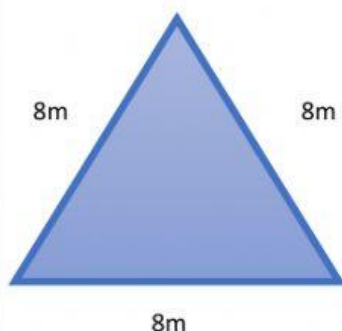


Escaleno

Equilátero

Isósceles

2. Coloca la formula bajo el triángulo que corresponda, calcula en una hoja aparte y escribe la respuesta del perímetro de cada triángulo



$$P = B + 2 \times l$$

$$P = l + l + l$$

$$P = 3 \times l$$

Respuesta=

Respuesta=

Respuesta=