



EVALUACIÓN MATEMÁTICA PARCIAL 2 - 2DO EGB

Nombre:

Fecha:

1. **INSTRUCCIÓN:** Escribe el número que falta para formar combinaciones de 10.

$$1 + \quad = 10$$


$$2 + \quad = 10$$

$$3 + \quad = 10$$

$$4 + \quad = 10$$

$$5 + \quad = 10$$

2. **INSTRUCCIÓN:** Completa las decenas puras.



3. INSTRUCCIÓN: Cuenta las decenas de helados en cada grupo y elige la respuesta correcta.



HAY:




HAY:



HAY:





4. INSTRUCCIÓN: Lee los siguientes números y une con líneas según corresponda.

Cincuenta y siete

79

Treinta y dos

32

Setenta y nueve

57

Noventa y uno

48

Doce

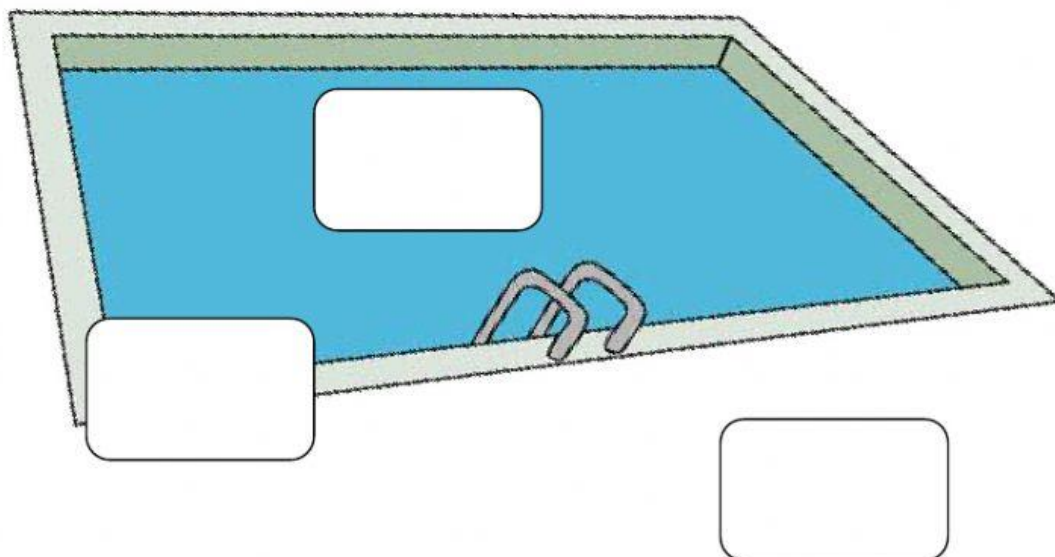
12

Cuarenta y ocho

91



5. INSTRUCCIÓN: Ubica al niño en el INTERIOR de la piscina, la pelota en el EXTERIOR de la piscina y la boya en la FRONTERA.



6. INSTRUCCIÓN: Selecciona la hora correcta.



8:00

8:15

8:30



3:30

3:00

3:15



4:30

4:00

4:15



3:30

3:45

3:00



Realizado por
Lic. Jorge Vaca G.
2020

