





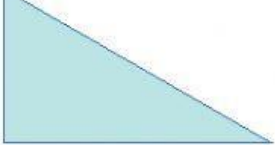
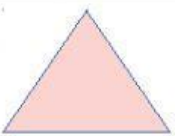


### CLASIFICACIÓN DE POLÍGONOS

POLÍGONOS	¿QUÉ CLASE DE POLÍGONO ES SEGÚN EL NÚMERO DE LADOS?	ESCRIBE SI O NO ¿ES PARALELOGRAMO?	NOMBRE SEGÚN COMO SON SUS ÁNGULOS O LA LONGITUD DE SUS LADOS.
			
			
			
			
			
POLÍGONOS	¿QUÉ CLASE DE POLÍGONO ES SEGÚN EL NÚMERO DE LADOS?	NOMBRE SEGÚN COMO SON SUS ÁNGULOS	NOMBRE SEGÚN COMO SON LA LONGITUD DE SUS LADOS.
			
			
			

COMPLETAR LA FICHA.