






SOALAN DATA TAHUN 3

SOALAN BERPANDUKAN PIKTOGRAF DI BAWAH

ISNIN	
SELASA	
RABU	
KHAMIS	
JUMAAT	



Mewakili 5 batang ais krim

Bilangan ais krim yang dijual di kantin SK Sultan Abdul Aziz dalam tempoh seminggu.

1. Kira jumlah jualan ais krim tersebut dalam seminggu.

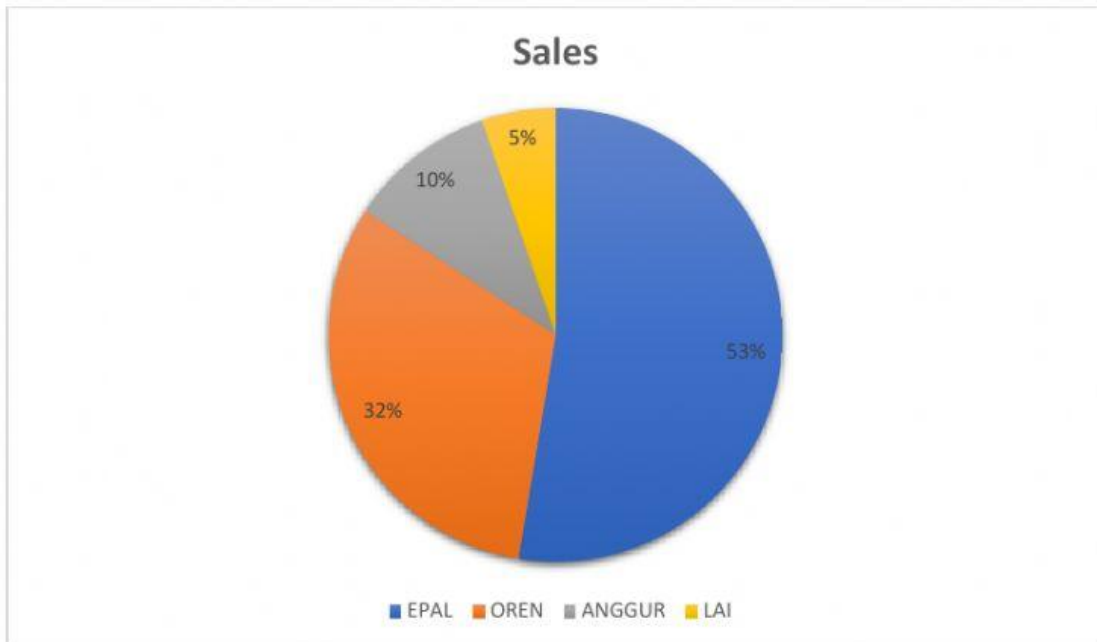
2. Berapa banyak ais krim yang dijual pada hari rabu?

3. Hari apakah ais krim paling sedikit dijual?

4. Hari apakah bilangan jualan ais krim sama banyak?

5. Sekiranya harga sebatang ais krim adalah 50 sen. Kira jumlah jualan ais krim tersebut dalam seminggu.

SOALAN CARTA PAI



Buah yang digemari oleh murid 3 Bestari.

Senaraikan buah mengikut turutan terbanyak.

1	
2	
3	
4	

5. Berapa peratus beza antara buah Epal dan Lai?

--

SOALAN CARTA PALANG



Carta di atas menunjukkan bilangan pekerja 6 buah kilang.

1. Berapakah jumlah pekerja Kilang E?

2. Berapakah jumlah bilangan pekerja Kilang A, B dan C apabila digabungkan?

3. Beza jumlah pekerja kilang A dan C adalah?

4. Jumlah keseluruhan pekerja Kilang A, B, C, D, E, dan F apabila digabungkan.

5. Kilang yang manakah memiliki 10000 ribu orang pekerja?