

# MATEMATIK TAHUN 1

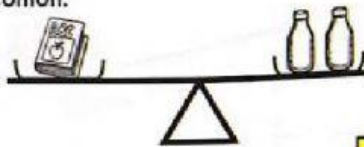
## JISIM (3)

NAMA: \_\_\_\_\_

TAHUN: \_\_\_\_\_

Warnakan jawapan yang betul.

Contoh:

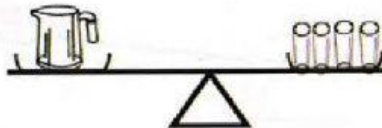


Berat sebuah buku sama dengan 

2	3
---	---

 biji botol.

1.

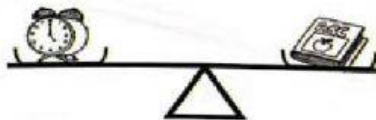


Berat sebuah jag sama dengan 

3	4
---	---

 biji gelas.

2.

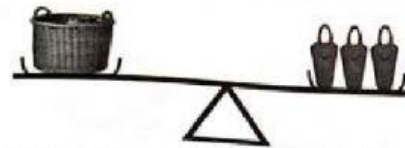


Berat sebuah jam loceng sama dengan 

1	2
---	---

 buah buku.

3.

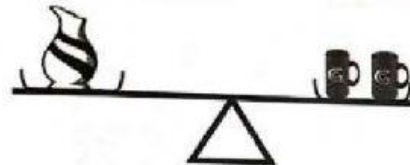


Berat bakul sama dengan 

4	3
---	---

 buah beg.

4.

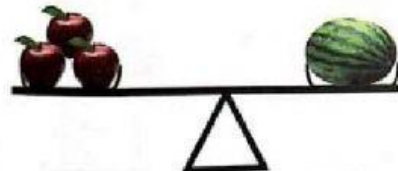


Berat pasu sama dengan 

3	2
---	---

 biji mug.

5.



Berat epal sama dengan 

3	1
---	---

 biji tembikai.

BY: CIKGU RAFIDAH ADNAN