

Nombre:

Fecha:

Curso:

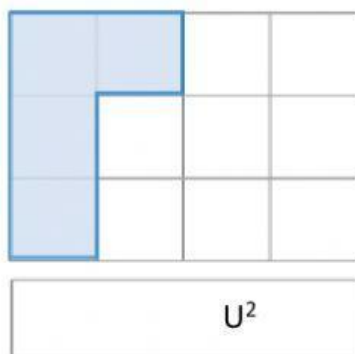
Paralelo:

Taller de Área

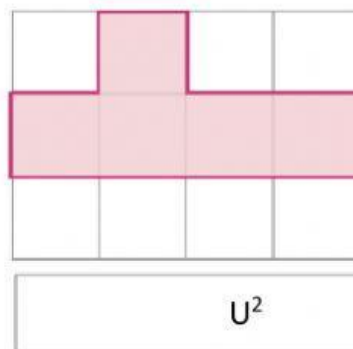


Determina el área de cada figura. Usa la cuadrícula como unidad de medida.

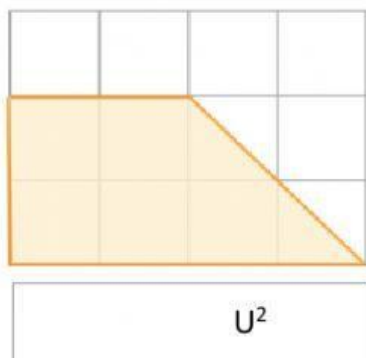
1.



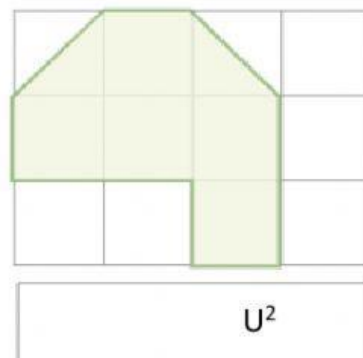
4.



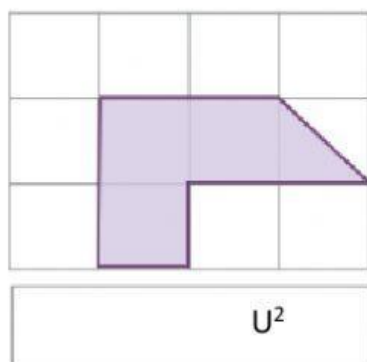
2.



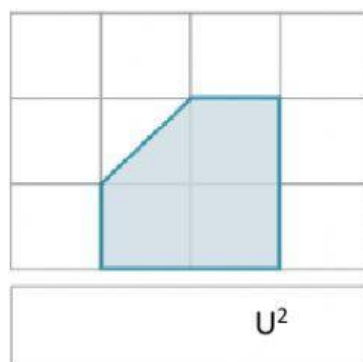
5.



3.

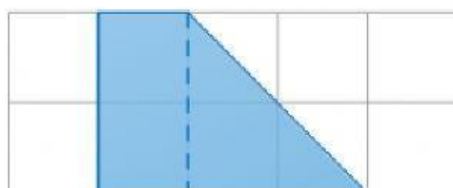


6.



Las siguientes figuras se han dividido en triángulos y rectángulos. Determina el área de cada una.

11.



$A_{\text{Rectángulo}}$

$A_{\text{Triángulo}}$

12.



$A_{\text{Rectángulo}}$

$A_{\text{Triángulo}}$

Expresa el área de cada figura en las dos unidades de medida dadas.

15.

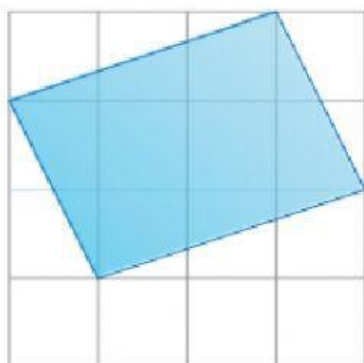


Unidad
cuadrada 1

16.



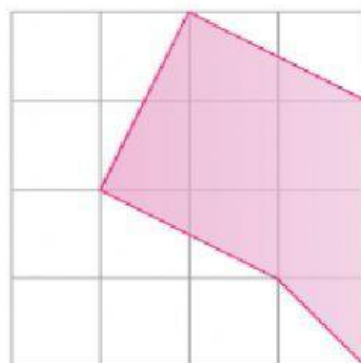
Unidad
cuadrada 2



Unidad
cuadrada 1



Unidad
cuadrada 2



Unidad
cuadrada 1



Unidad
cuadrada 2