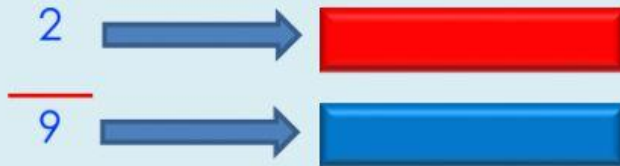


EXAMEN

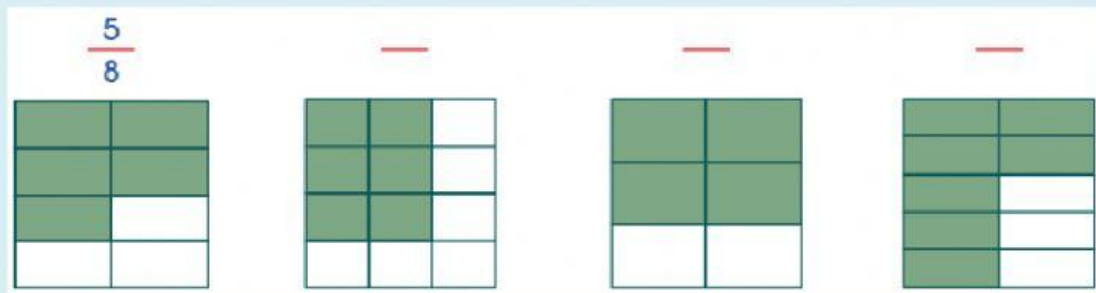
TEMA: Fracciones

FECHA: 23 de noviembre del 2020

- 1) Escribe los términos de la fracción:



- 2) Observa los gráficos y escribe la fracción que representa.




- 3) Escribe numéricamente las siguientes fracciones.

- Tres quintos =
- Dos décimos =
- Cinco décimos =
- Once novenos =

• Un cuarto = 

Siete octavos = 

• Ocho tercios = 

Diez cuartos = 

• Cuatro sextos = 

Seis quinceavos = 

• Un medio = 

Ocho onceavos = 

4) Escribe cómo se leen las siguientes fracciones

$$\frac{1}{4} =$$

$$\frac{1}{8} =$$

$$\frac{2}{3} =$$

$$\frac{2}{12} =$$

$$\frac{2}{6} =$$

$$\frac{4}{10} =$$