

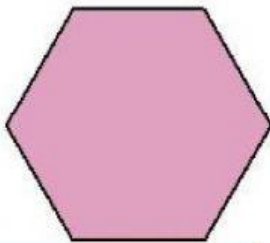
POLIGONOS REGULARES

Todos los siguientes polígonos son polígonos regulares, es decir TODOS sus lados miden lo mismo.

En todos los polígonos la medida de cada lado es = 9 cm.

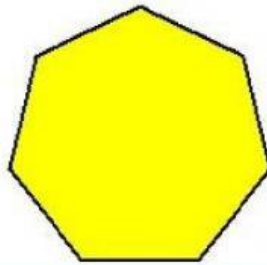
En todos los polígonos la medida de su apotema es = 6 cm.

Encuentra el perímetro y área de los siguientes polígonos.




PERÍMETRO= cm

ÁREA= cm^2



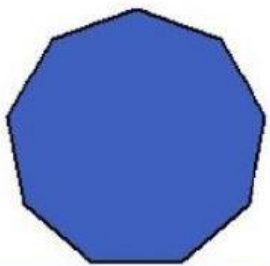
PERÍMETRO= cm

ÁREA= cm^2



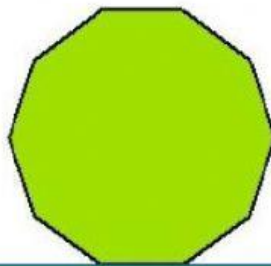
PERÍMETRO= cm

ÁREA= cm^2



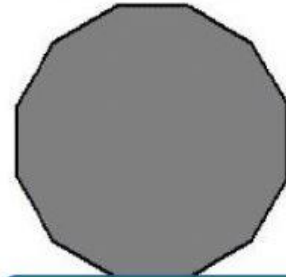
PERÍMETRO= cm

ÁREA= cm^2



PERÍMETRO= cm

ÁREA= cm^2



PERÍMETRO= cm

ÁREA= cm^2