



1ª MISIÓN: Para salir de la nave debes resolver este problema y escribir el código.



2ª MISIÓN: Averigua los dígitos de la tarjeta realizando esta operación.



$$39.815 - 4.036$$



3ª MISIÓN: Aproxima al orden adecuado y estima.

$$\begin{array}{r} 93 \\ + 68 \\ \hline \end{array}$$

$$\begin{array}{r} 6432 \\ + 3264 \\ \hline \end{array}$$

$$\begin{array}{r} 896 \\ - 235 \\ \hline \end{array}$$

$$\begin{array}{r} 6048 \\ - 3362 \\ \hline \end{array}$$



4ª MISIÓN: Calcula y completa la tabla.

		
Minuendo	Sustraendo	Diferencia
6.415	3.291	
	8.041	3.108
27.624		13.191



5ª MISIÓN: ¿Qué números faltan en estas igualdades?

- _____ + 426 = 426 + 525
- 839 + 124 = _____ + 839



6ª MISIÓN: Marca con X los números impares.



7ª MISIÓN: Calcula y escribe en minúscula cómo se llaman los términos.

$$\begin{array}{r} 4397 \\ + 9621 \\ \hline \end{array}$$


$$\begin{array}{r} 58636 \\ - 26925 \\ \hline \end{array}$$



8ª MISIÓN: Necesitamos el código para abrir la armería. Haz las restas y comprueba. No podemos fallar. Luego escribe las cifras que faltan.

$$63.840 - 21.792$$

$$19.003 - 2.181$$



9ª MISIÓN:

El depósito de la nave se rellenó dos veces. Por la mañana echaron 62.784 litros de queroseno y por la tarde 27.936 litros. ¿Cuántos litros echaron por la mañana aproximadamente?

¿Y por la tarde?

¿Cuántos litros echaron aproximadamente en total?



10ª MISIÓN:

En el almacén hay 6 cajas con 30 archivadores marrones cada una y 4 cajas con 15 archivadores azules cada una.

¿Cuántos archivadores hay en total?





11ª MISIÓN

En este panel están los litros que hay en la nave de cada elemento.

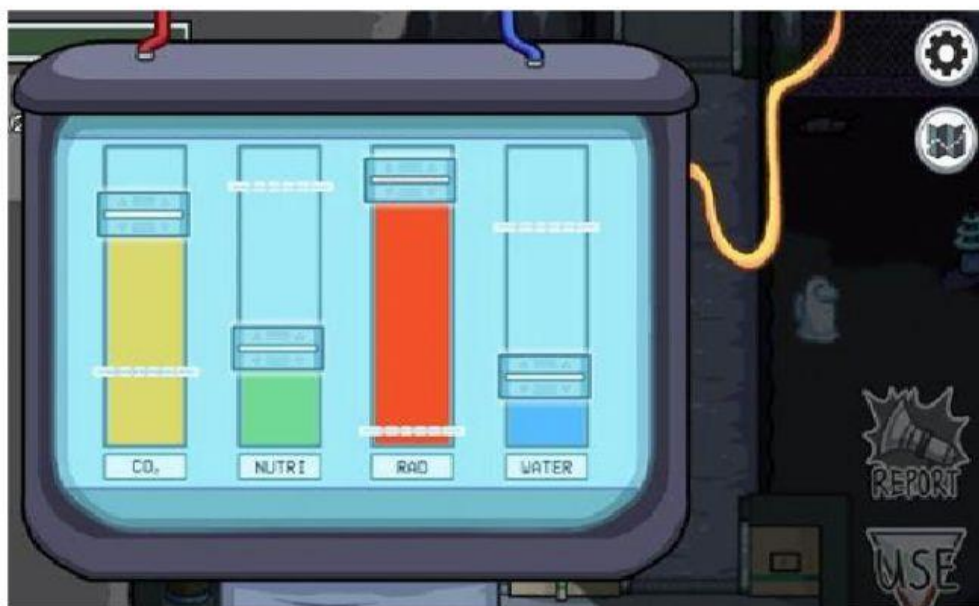
Relaciona cada número con su elemento.

3.689

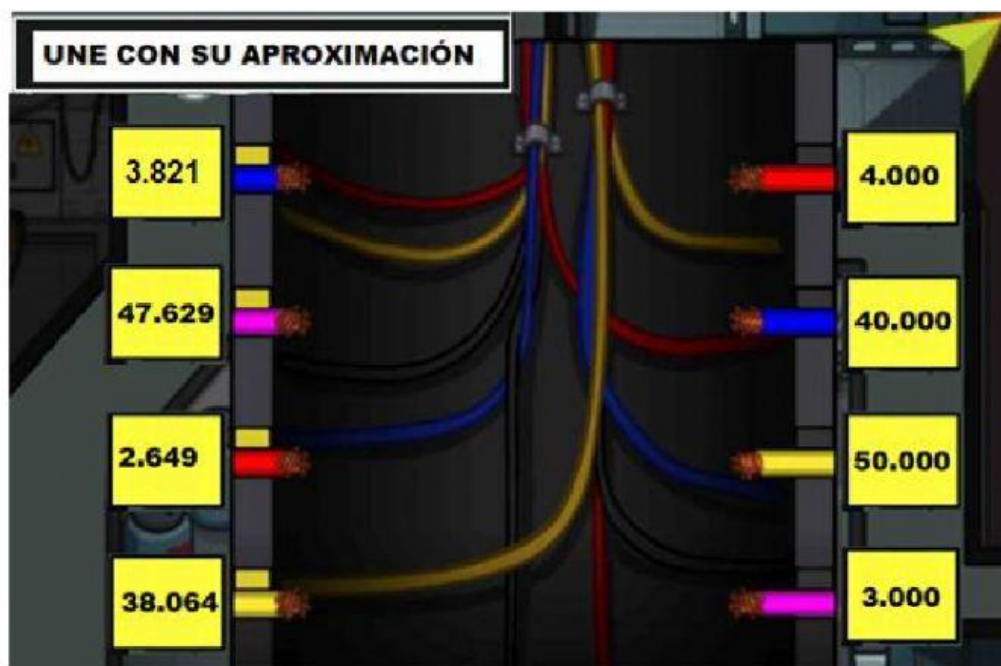
2.368

8.234

9.835




12ª MISIÓN:





13ª MISIÓN



14ª MISIÓN: Desbloquea los colectores escribiendo los números de las casillas verdes en orden ascendente, de menor a mayor.



	>		>		>	
>		>		>		