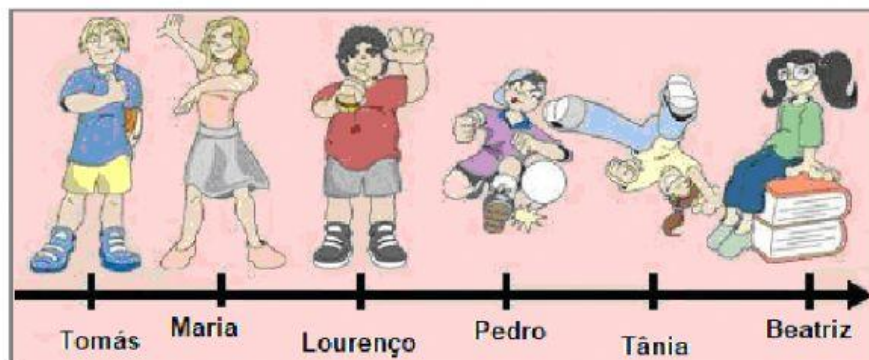


Números relativos - 5

1.

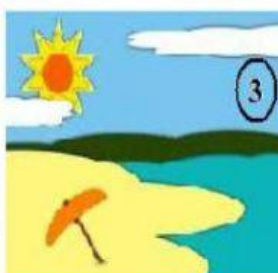

Os colegas da Joana estão posicionados na reta numérica:



Sabendo que o Tomás está na posição (-8) , a Tânia encontra-se na posição _____ e o Lourenço na posição _____.

2.

Em quais das seguintes situações pode a temperatura ser representada por um número inteiro negativo?



(A) Posições 1 e 2

(B) Posições 2 e 3

(C) Posições 1 e 4

(D) Posições 2 e 4

3.

Considera os números (-9) , (-18) , $(+12)$, (-1) . Qual o maior destes números?

(A) -9

(B) -18

(C) $+12$

(D) -1

4.

O termómetro tem uma temperatura de -10°C graus marcada. Qual a temperatura que marcará se esta aumentar 15°C

(A) -10

(B) -5

(C) $+10$

(D) $+5$

5.

A tabela abaixo evidencia as temperaturas a que os alimentos são conservados num dado supermercado.

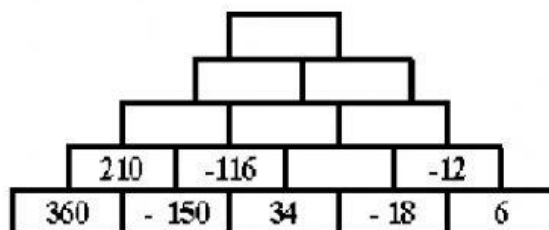
Temperaturas indicadas	
Mercadorias	Temperatura
Bebidas	15 °C
Carnes	0 °C
Congelados	-18 °C
Frutas e verduras	10 °C

Quais os produtos que são conservados a uma temperatura abaixo de 0°C?

- (A) As bebidas (B) as carnes (C) os congelados (D) as frutas e verduras

6.

Completa a pirâmide, sabendo que cada casa é igual à soma das duas casas imediatamente inferiores



7.

Ordena as bolas da menor para a maior:



Tens dúvidas? Deixa aqui os teus comentários