



**PEMERINTAH KOTA DENPASAR
DINAS PENDIDIKAN KEPEMUDAAN DAN OLAHRAGA
SEKOLAH DASAR
PENILAIAN AKHIR SEMESTER (PAS)
TAHUN PELAJARAN 2020/2021**



LEMBAR SOAL

Tema : 3. (Tugasku Sehari-hari)
Kelas : Dua
Semester : I (satu)
Hari / Tanggal : Rabu, 25 Nopember 2020
Waktu : 07.30 – 09.00 WITA

Petunjuk Umum :

1. Tulislah identitas nama, kelas, dan nomor urutmu pada lembar jawaban yang telah disediakan!
2. Tuliskan semua jawaban di lembar jawaban!
3. Bacalah setiap butir soal dengan baik sebelum dijawab!
4. Kerjakan lebih dahulu soal yang dianggap mudah!
5. Tanyakan kepada pengawas apabila ada soal yang kurang jelas!
6. Periksa kembali pekerjaanmu sebelum lembar soal dan lembar jawaban diserahkan kepada pengawas!

----- SELAMAT BEKERJA -----

1. Mupel PPKn KD. 3.1

1. Perhatikan pernyataan berikut!

- i. Membantu ibu membersihkan rumah
- ii. Rajin menabung
- iii. Berdoa sebelum makan

Kegiatan yang mencerminkan pengamalan sila pertama dari pernyataan tersebut adalah

- A. i
- B. ii
- C. iii

2. Perhatikan gambar berikut!



Kegiatan tersebut sesuai dengan pengamalan sila Pancasila yang dilambangkan dengan

- A. Kepala banteng
- B. Rantai emas
- C. bintang

3. Nyoman selalu berdoa sebelum makan sebagai wujud rasa ... atas karunia Tuhan.

- A. syukur
- B. menghormati
- C. menghargai

4. Berhemat dan selalu berterima kasih kepada ibu karena telah memasak makanan setiap hari merupakan contoh sikap yang sesuai dengan sila Pancasila yang ber lambang

A. Rantai emas
B. Pohon beringin
C. Padi dan kapas

5. Perhatikan gambar berikut!



Kegiatan tersebut merupakan penerapan sila Pancasila yang berbunyi

A. Kemanusiaan yang adil dan beradab
B. Ketuhanan yang mahaesa
C. Persatuan indonesia

2. MupelPPKn KD. 3.3

6. Perhatikan gambar berikut untuk menjawab soal nomor 6 dan 7!



Keberagaman yang ditunjukkan dari gambar tersebut adalah

A. Kue kesukaan
B. Jenis pekerjaan
C. Karakteristik fisik

7. Yang berjenis kelamin laki-laki pada gambar adalah

A. Kakek dan Nenek
B. Ayah dan Kakek
C. Adik dan Ibu

8. Tabel berikut untuk menjawab soal nomor 9 dan 10!

Nama	Warna Kesukaan
Ibu	Merah
Ayah	Biru

Marta	Merah
Beni	Ungu

Marta memiliki warna kesukaan

- A. Merah
 - B. Biru
 - C. Ungu
9. Anggota keluarga yang memiliki warna kesukaan yang sama adalah
- A. Ibu dan Beni
 - B. Ibu dan Marta
 - C. Marta dan Beni
10. Ibu suka berkebun, ayah suka membaca koran, dan kakak suka menonton televisi. Mereka memiliki keberagaman dalam hal
- A. Makanan kesukaan
 - B. Kegiatan kesukaan
 - C. Warna kesukaan

3. Mupel Bahasa Indonesia KD. 3.3



11. Perhatikan gambar berikut untuk menjawab soal nomor 11 dan 12! Berdasarkan denah, Balai Desa terletak diantara
- A. SD Brilian dan kantor Polisi
 - B. Puskesmas dan kantor Polisi
 - C. Puskesmas dan Pasar
12. Kalimat berikut yang sesuai dengan denah diatas adalah
- A. Di depan lapangan terdapat pasar
 - B. Kantor Polisi terletak di depan Sawah
 - C. Puskesmas terletak di sebelah kanan SD Brilian
13. Ibu memiliki lapak yang menjual ikan segar di pasar. Setiap hari libur Mia selalu membantu ibu ... di pasar.
- Kata yang tepat untuk melengkapi kalimat diatas adalah
- A. memasak
 - B. berjualan
 - C. mencucipiring

14. Adik sedang sakit. Ibu dengan sabar ... adik.

Kata tentang sikap baik yang tepat untuk kalimat diatas adalah

- A. merawat
- B. menolong
- C. menjenguk

15. Kakak membantu Ami ketika kesulitan dalam belajar

Matematika. Kata tentang sikap baik dalam kalimat di atas adalah

- A. kesulitan
- B. belajar
- C. membantu

4. Mupel Matematika KD. 3.5

16. Perhatikan gambar berikut untuk menjawab soal nomor 16 dan 17!



Nilai uang pada gambar **B** adalah

- A. 100 rupiah
- B. 500 rupiah
- C. 1000 rupiah

17. Nilai uang yang paling kecil ditunjukkan oleh gambar

- A. A
- B. B
- C. C

18. Perhatikan gambar berikut!



Nilai kelompok mata uang pada gambar adalah ... rupiah

- A. 2.000
- B. 3.500
- C. 4.500

19. Perhatikan cerita berikut untuk menjawab soal nomor 19 dan 20 !

Ibu membeli bahan makanan di pasar. Ini adalah beberapa belanjaan ibu.

		
1 ikat bayam Rp 2.000,00	1 papan tempe Rp 1.500,00	1 Kg mangga Rp 5.000,00

Kelompok uang yang senilai dengan harga 1 kg mangga adalah

A.	
B.	
C.	

20. Urutan barang dari harga yang paling tinggi adalah

- A. mangga, bayam, tempe
- B. mangga, tempe, bayam
- C. tempe, mangga, bayam

21. Made memiliki 5 lembar uang seribuan rupiah. Made ingin membeli kue rasa Stroberi yang harganya Rp 2.500,00. Dengan uang yang ia miliki, Made dapat membeli ... kue rasa stroberi.

- A. 1
- B. 2
- C. 3

5. Mupel SBDP KD. 3.1

22. Perhatikan gambar untuk menjawab soal nomor 22 dan 23!



Karya pada gambar termasuk karya ...





- A. imajinatif
- B. cetak
- C. anyam

23. Judul yang tepat untuk karya pada gambar adalah ...

- A. Jalan-jalan Sore Bersama
- B. Berbelanja Sayuran di Pasar

C. Menyiram Kebun Sayuran

24. Perhatikan gambar untuk menjawab soal nomor 24 dan 25!

			
A	B	C	D

Nyoman akan menggambar, sebelum itu ia akan membuat garis tepi. Alat yang digunakan Nyoman ditunjukkan oleh gambar

- A. A dan B
- B. B dan D
- C. C dan D

25. Alat yang digunakan untuk mewarnai ditunjukkan oleh gambar




- A. A
- B. B
- C. C

6. Mupel SBDP KD. 3.2

26. Banyaknya ketukan dalam satu ruas disebut

- A. nada
- B. irama
- C. birama

27. Perhatikan gambar berikut untuk menjawab soal nomor 27 dan 28!

		
A	B	C

Bunyi yang dihasilkan benda C adalah

- A. ting
- B. tuk
- C. tong

28. Bunyi paling kuat dihasilkan oleh benda

- A. A
- B. B
- C. C

29. Benda di rumah yang dapat dijadikan alat musik sederhana adalah

- A. Gelas yang terjatuh
- B. Botol berisi air
- C. Panci yang dipukul

7. Mupel SBDP KD. 3.3

30. Perhatikan gambar berikut untuk menjawab soal nomor 30 dan 31!



Gerak tari seperti pada gambar adalah Gerakan yang menirukan

- A. Bebek berenang
- B. Kupu-kupu terbang
- C. Kelinci melompat

31. Bagian tubuh yang digerakkan pada gambar adalah

- A. kaki
- B. tangan
- C. pinggang

32. perhatikan gambar berikut!

Gerak tari tersebut menirukan



- A. Menyapu lantai
- B. Menghapus papan
- C. Pak tani mencangkul

33. Gerak tari pada gambar menirukan gerak

- A. alam
- B. aktif
- C. keseharian

8. Mupel SBdP KD. 3.4

34. Perhatikan gambar karya dibawah ini!



Bahan alam yang digunakan dalam karya tersebut adalah

- A. Daun kering
- B. Tanah liat
- C. biji-bijian

35. Untuk menempelkan bahan alam tersebut pada sketsa, maka diperlukan

- A. selotip
- B. getah
- C. lem

36. Made membuat tempat pensil dari botol plastik bekas, ranting kering, dan daun kering. Bahan buatan yang digunakan Made adalah

- A. Daun kering
- B. Ranting kering
- C. Botol plastik

9. Mupel PJOK KD. 3.1

37. Perhatikan gambar untuk menjawab soal nomor 37 dan 38!




Anak pada gambar melakukan variasi gerak ... bola.

- A. melempar
- B. memukul
- C. menendang

38. Saat melakukan gerakan tersebut maka pandangan kearah

- A. datangnya bola
- B. gawang lawan
- C. belakang pemain

39. Perhatikan gambar untuk menjawab soal nomor 39 dan 40!



Anak pada gambar melakukan gerakan

- A. Menyundul bola
- B. Melempar bola
- C. Menggiring bola