




SOAL EVALUASI
TEMA 5 SUBTEMA 2 PEMBELAJARAN 2
SDN 145 BINONGJATI BANDUNG

NAMA :

JAWABLAH PERTANYAAN DIBAWAH INI DENGAN MEMILIH JAWABAN YANG PALING TEPAT!

1

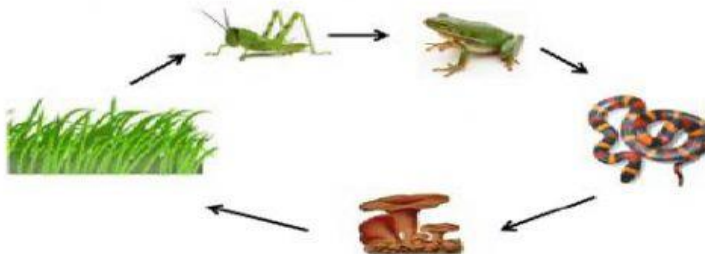


Perhatikan rantai makanan diatas.

Energi yang diperoleh singa berasal dari ...

- A. Rumput
- B. Kijang
- C. Pengurai
- D. Matahari

2



Dalam rantai makanan diatas, belalang mendapat energy dari rumput, katak mendapat energy dari belalang, ular mendapat energy dari katak yang dimakannya dan ular mati menjadi pengurai.

Katak pada rantai makanan diatas berperan sebagai...

- A. Produsen
- B. Konsumen 1
- C. Konsumen 2
- D. Konsumen 3


3 Perhatikan komponen biotik berikut ini

- 1. Sayuran
- 2. Elang
- 3. Ular
- 4. Pengurai
- 5. Ulat
- 6. Ayam

Urutan yang tepat untuk membentuk rantai makanan diatas adalah ...

- A. 1-2-3-4-5-6
- B. 1-3-2-5-4-6
- C. 1-5-6-3-2-4
- D. 1-6-5-2-3-4

4 Perhatikan rantai makanan berikut!



Apa yang akan terjadi jika cecak punah pada rantai makanan tersebut?

- A. Belalang akan punah
- B. Burung akan tumbuh banyak
- C. Tanaman akan punah
- D. Burung akan punah

5 Perhatikan tumbuhan dibawah ini!

- 1. Rumput
- 2. Padi

3. Bayam

4. Jamur

Tumbuhan diatas yang dapat berperan sebagai produsen adalah ...

A. 1,2,3

B. 2,3,4

C. 1,3,4

D. 4 saja

6 Perhatikan judul buku dibawah ini!

1. Biografi Soekarno

2. Kancil dan Buaya

3. Jurnal kegiatan pengamatan lingkungan sekolah

4. Cara memelihara kelinci

Yang termasuk ke dalam teks non fiksi adalah ...

A. 1,2,3

B. 1,2,4

C. 1,3,4

D. 2,3,4

7 Perhatikan pernyataan dibawah ini!

1. Ditulis berdasarkan fakta dan data

2. Ditulis berdasarkan khayalan pengarangnya

3. Menggunakan Bahasa baku

4. Menggunakan Bahasa tidak resmi

5. Menarik minat pembacanya

6. Bersifat ilmiah

7. Merupakan cerita untuk kesenangan

Yang termasuk ciri-ciri teks non fiksi adalah ...

A. 1,2,3,5

B. 1,3,5,6

C. 2,4,5,6

D. 2,3,4,6

8 Property tari yang digunakan dalam tarian berikut adalah ...



- A. Selendang, payung dan boneka,
- B. Selendang, hiasan kepala dan bokor
- C. Selendang, hiasan tangan dan payung
- D. Selendang, piring dan ikat kepala

9 Perhatikan benda-benda dibawah ini!

- 1. Selendang
- 2. Payung
- 3. Piring
- 4. Topeng
- 5. gembok

Yang biasa digunakan sebagai property dalam tari adalah ...

- A. 1,2,5
- B. 2,4,5
- C. 3,4,5
- D. 1,2,4

10 Perhatikan gambar berikut!



Property yang digunakan dalam tarian tersebut adalah ...

- A. Boneka
- B. Selendang

C. Payung

D. Tombak