



PEMERINTAH KABUPATEN LUWU TIMUR
DINAS PENDIDIKAN
SDN 264 WAWONDULA

Jl. Gunung Agung No. 01 Wawondula, Kec. Towuti

PENILAIAN AKHIR SEMESTER (PAS)

Tahun Pelajaran : 2020/2021

Kelas / Semester : 1 / 1	Nama :
Tema : 2 (Kegemaranku)	No. Absen :
Waktu : 90 Menit	Hari/Tanggal : Kamis, 03 Desember 2020

Jawablah pertanyaan di bawah ini dengan tepat!

1. Pilihlah tanda 😊 pada gambar anak yang mematuhi peraturan dan tanda ☹️ pada gambar anak yang tidak mematuhi aturan.

A.3,2/5



berlaku kasar kepada teman



berbaris rapi sebelum berolah raga



menggunakan perlengkapan untuk keselamatan



marah karena kalah



mengantre giliran



2. Ayah Udin senang menggambar rumah dan gedung.
Bunga adalah gambar kesukaan ibu.
Udin senang menggambar binatang.
Kendaraan adalah gambar kesukaan paman Udin.
Pasangkan gambar di samping ini.
Sesuaikan dengan kesukaan anggota keluarga

A.3,3/4



•

•

Ibu



•

•

Ayah



•

•

Paman



•

•

Udin

3. Beri tanda centang (✓) pada gambar kegiatan yang menyehatkan!

B.3,5/5



B.3,11/1

4. Lagu Kasih Ibu bercerita tentang...

- A. kasih seorang ayah B. kasih seorang ibu C. kasih seorang teman

5. Beri tanda (√) pada gambar yang menunjukkan posisi duduk yang benar

B.3,2/4




6. Tunjukkan gambar cara membaca yang benar dengan memberi tanda (√) pada gambar

B.3,1/4



7. Hitunglah benda di bawah ini.

C.3,4/6



$$\square + \square = \square$$



$$\square + \square = \square$$

8. Paman memetik 10 mangga, tapi sayang 3 mangga jatuh dari pohon. Berapa sisa mangga paman ?

C.3,4/4

Jawab : $\square - \square = \square$


9. Pindahkan dan susunlah huruf di bawah ini menjadi nama bangun ruang sesuai gambar.

C.3,6/4




l o a b

→ $\square \square \square \square$



l o k b a

→ $\square \square \square \square \square$



b u s k u

→ $\square \square \square \square \square$

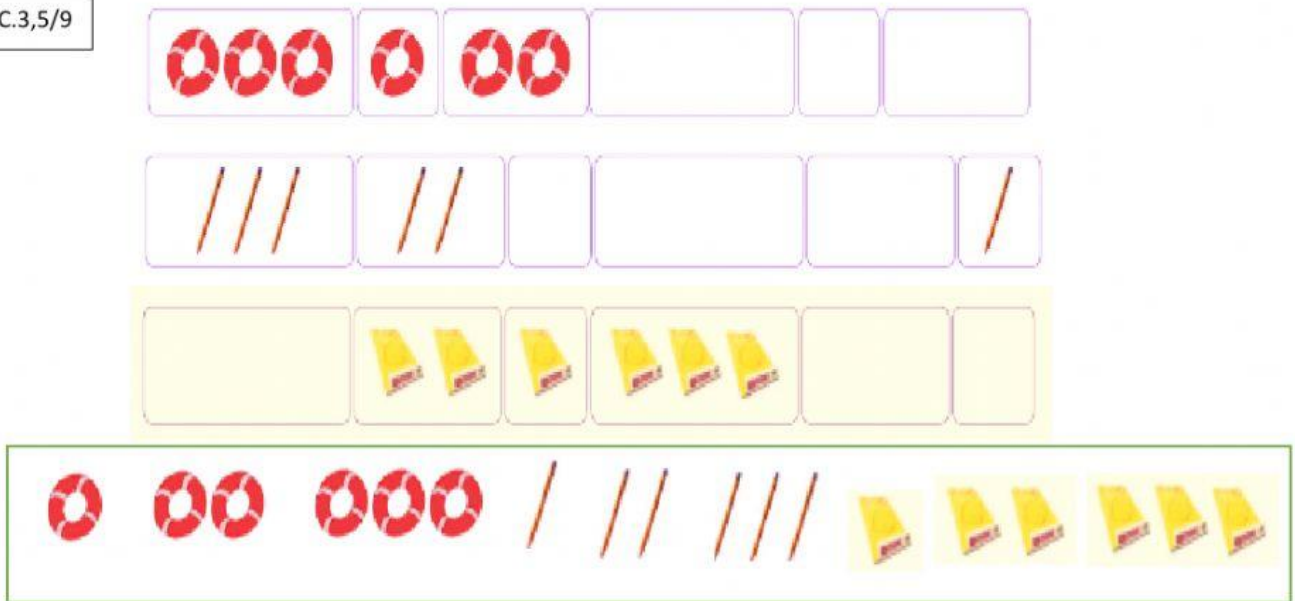


b u n g t a

→ $\square \square \square \square \square \square$

10. Lengkapi gambar di bawah ini dengan memindahkannya.

C.3,5/9



Tari Tepuk Tangan

Ciptaan Pak Kasur

11.

F.3,2/3

Bertepuk tangan dahulu
Bunyi derapkan kakimu
Berputar di lingkaran
Mari bersama
Kembali di tempat semula

Judul lagu di samping adalah _____

12.

F.3,3/6



Gambar di samping adalah adik sedang latihan _____

13.

F.3,1/4



Gambar di samping dilukis dengan menggunakan _____

14.

F.3,4/4



Bahan yang digunakan untuk menghias kartu di samping adalah _____

15.

A'.3,2/6



Berdasarkan gambar di samping kegiatan yang sedang dilakukan oleh Siti dan kawan-kawan adalah lomba balap _____

16.

A'.3,2/1



Gerakan yang dilakukan Udin dan teman-teman pada gambar di samping adalah gerakan

A. mendorong B. menarik C. melompat