











Lengkapi ayat matematik dan jumlahkan.

 1. <input type="text"/> + <input type="text"/> = <input type="text"/>	 2. <input type="text"/> + <input type="text"/> = <input type="text"/>
 3. <input type="text"/> + <input type="text"/> = <input type="text"/>	 4. <input type="text"/> + <input type="text"/> = <input type="text"/>
 5. <input type="text"/> + <input type="text"/> = <input type="text"/>	 6. <input type="text"/> + <input type="text"/> = <input type="text"/>
 7. <input type="text"/> + <input type="text"/> = <input type="text"/>	 8. <input type="text"/> + <input type="text"/> = <input type="text"/>
 9. <input type="text"/> + <input type="text"/> = <input type="text"/>	 10. <input type="text"/> + <input type="text"/> = <input type="text"/>