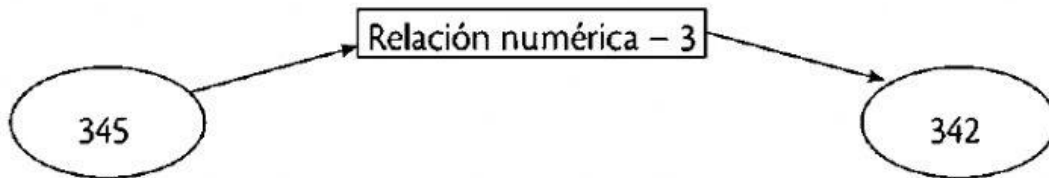


ACTIVIDAD 1 ASINCRÓNICA

Tema: Relación de correspondencia

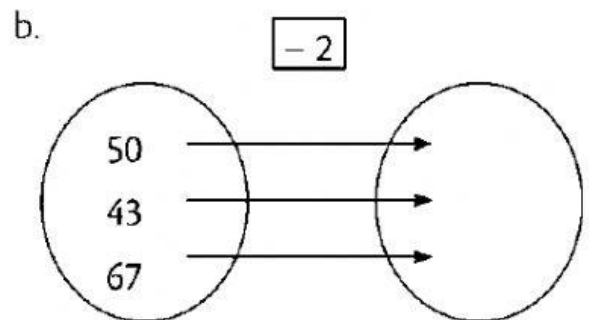
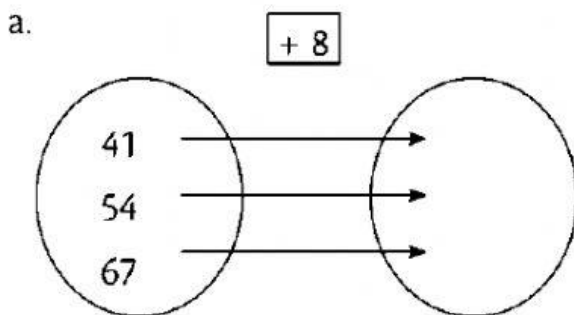
1. Escribe los nombres de los conjuntos entre los que se realiza la correspondencia.



a. Conjunto de

b. Conjunto de

2 Completa los elementos del conjunto para que se cumpla la relación numérica.



3 Escribe la relación numérica que se cumple entre los dos conjuntos.

