



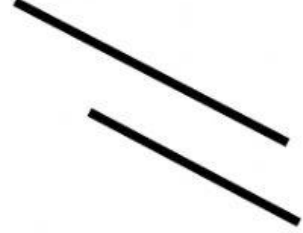
مدرسة ابن سينا الابتدائية  
ورقة عمل للصف الثالث

في موضوع المستقيمان المتوازيان والمتعامدان

الصف: \_\_\_\_\_

اسم الطالب: \_\_\_\_\_

(1) أكتب متوازيان أو غير متوازيان:

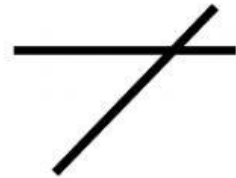
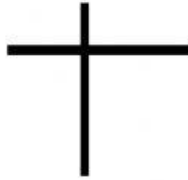


\_\_\_\_\_

\_\_\_\_\_

\_\_\_\_\_

(2) أكتب متعامدان أو غير متعامدان

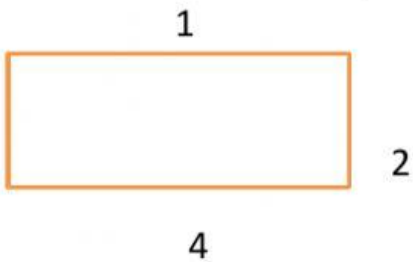


\_\_\_\_\_

\_\_\_\_\_

\_\_\_\_\_

(3) تمعن في المضلع التالي وأكمل متوازيان أو غير متوازيان



أ) الضلع 1 والضلع 2 \_\_\_\_\_

ب) الضلع 1 والضلع 4 \_\_\_\_\_