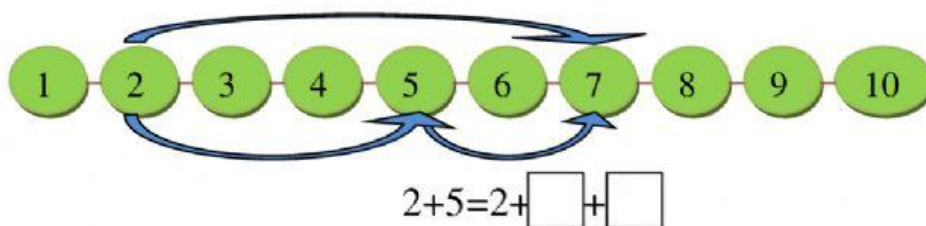


Додавання кількох доданків

1. Упиши потрібні числа.



2. Обчисли.

$4+2+1=\square$

$3+2+3=\square$

$4+1+2=\square$

$5+2+3=\square$

$2+3+1=\square$

$6+1+2=\square$

3. Порівняй вираз і число.

$4+1+2 \square 6$

$4+3+2 \square 9$









$5+3+2 \square 7$

$8+1+1 \square 10$

$5+4+0 \square 8$

$0+4+1 \square 5$

4. Вирахуй вирази та дізнайся, де чиї іграшки. Поєднай.

 9	 7	 6	 10
 $5+2+3$	 $8+0+1$	 $4+1+2$	 $1+3+2$

5. Визнач закономірність і запиши відповідні числа.

